

EJERCICIOS PRÁCTICOS GEOGRAFÍA SELECTIVIDAD 2022-2023

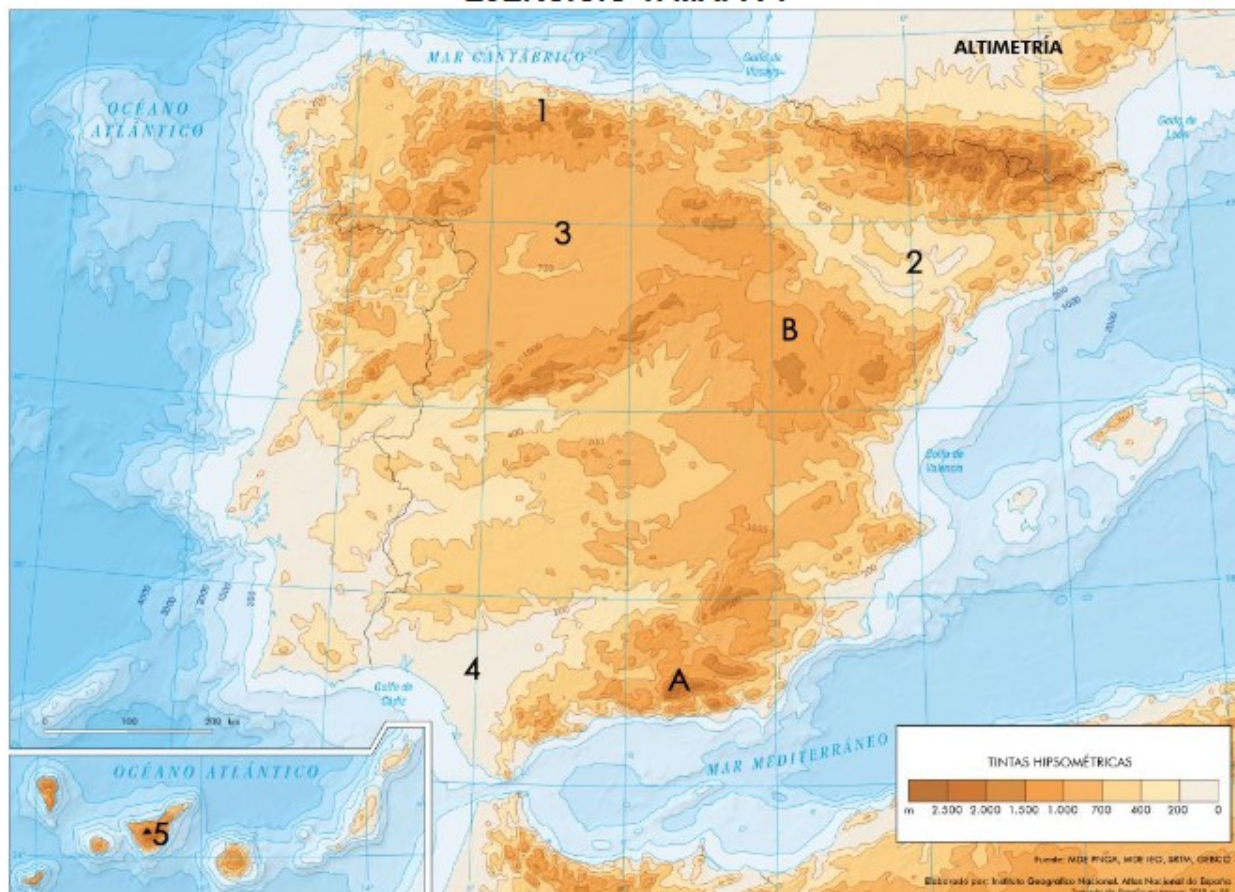
TEMA 2: EL RELIEVE

Ejercicio nº 1

EJERCICIO 1. A continuación se presenta un mapa de altitudes sobre el nivel del mar de España. A partir del mismo responda a las siguientes cuestiones:

- a) Diga el nombre de las unidades de relieve señaladas numéricamente del 1 al 5. (Hasta 1 punto).
- b) Identifique y describa las características de los relieves señalados con las letras A y B. (Hasta 1 punto).
- c) Explique el origen de la formación de las principales zonas altitudinales que se observan en el mapa. (Hasta 2 puntos).

EJERCICIO 1. MAPA 1



TEMA 3: EL CLIMA

Ejercicio nº 2

EJERCICIO 2. A continuación se reproduce un mapa de España de temperaturas medias anuales. Obsérvelo con atención y responda a las siguientes cuestiones:

- a) Diga 10 provincias cuya temperatura media supere los 20°. (Hasta 1 punto).
- b) Explique las diferencias de temperatura entre los litorales mediterráneo y cantábrico. (Hasta 1 punto).
- d) Establezca las relaciones entre la actividad turística y la distribución de la temperatura media en España. (Hasta 2 puntos).

EJERCICIO 2. MAPA 2



TEMA 4: LAS AGUAS Y LA RED HIDROGRÁFICA

Ejercicio nº 3

EJERCICIO 1. En el mapa adjunto se representan los principales ríos y las cuencas hidrográficas de España. Analízelo y responda a las siguientes preguntas:

- Diga el nombre de las cuencas de la vertiente mediterránea. (Hasta 1 punto).
- Explique los tipos de regímenes fluviales que tienen los ríos de la vertiente cantábrica. (Hasta 1 punto).
- Describa las características generales de los ríos de la vertiente atlántica. (Hasta 2 puntos).

EJERCICIO 1. MAPA 1.

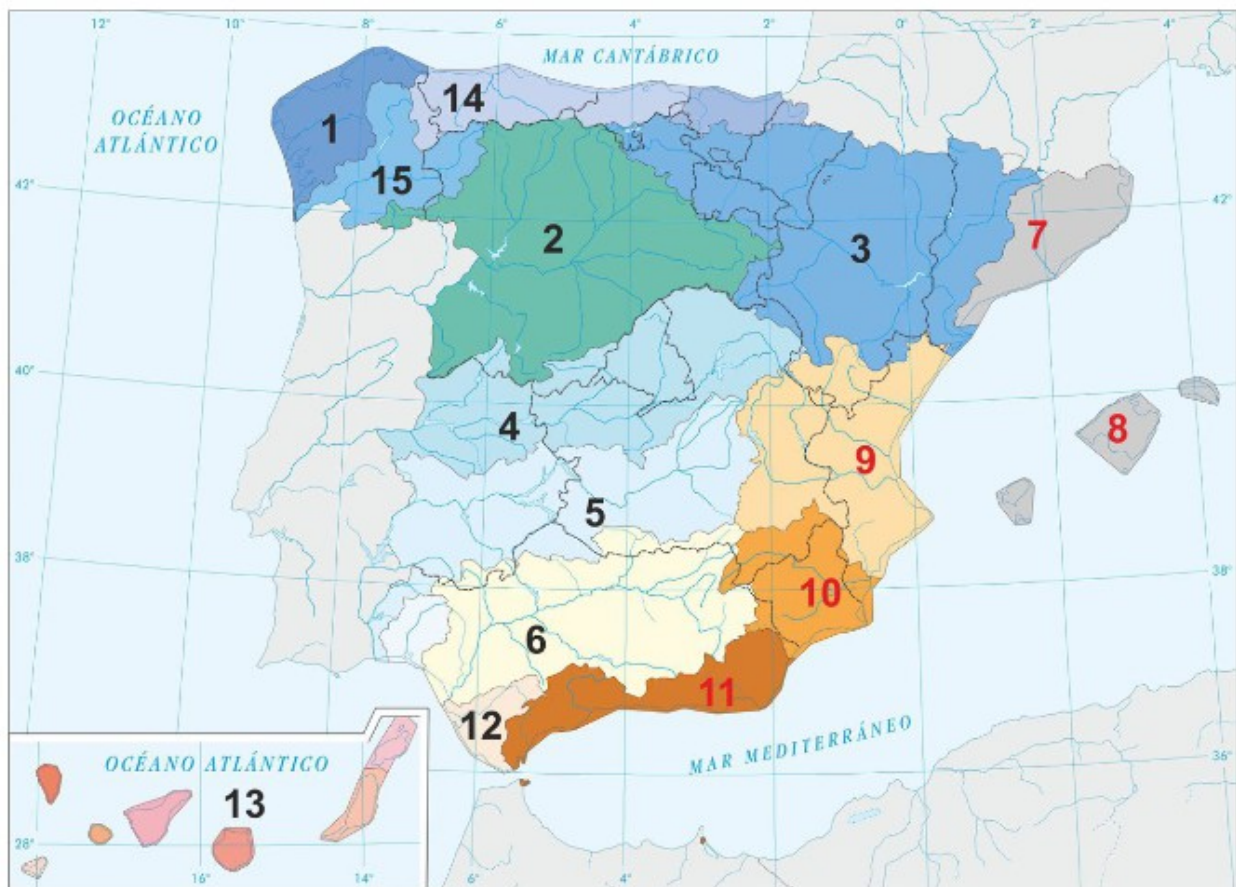


Ejercicio nº 4

EJERCICIO 2. En el mapa 2 se representan los principales ríos y las cuencas hidrográficas de España. Analícelo y responda a las siguientes preguntas:

- a) Escriba el nombre de las cuencas enumeradas en el mapa. (Hasta 1 punto).
- b) Describa las características generales de la vertiente atlántica. (Hasta 1 punto).
- c) ¿Qué tipo de regímenes fluviales tienen los ríos de la vertiente mediterránea? Razone la respuesta. (Hasta 2 puntos).

EJERCICIO 2. MAPA 2.



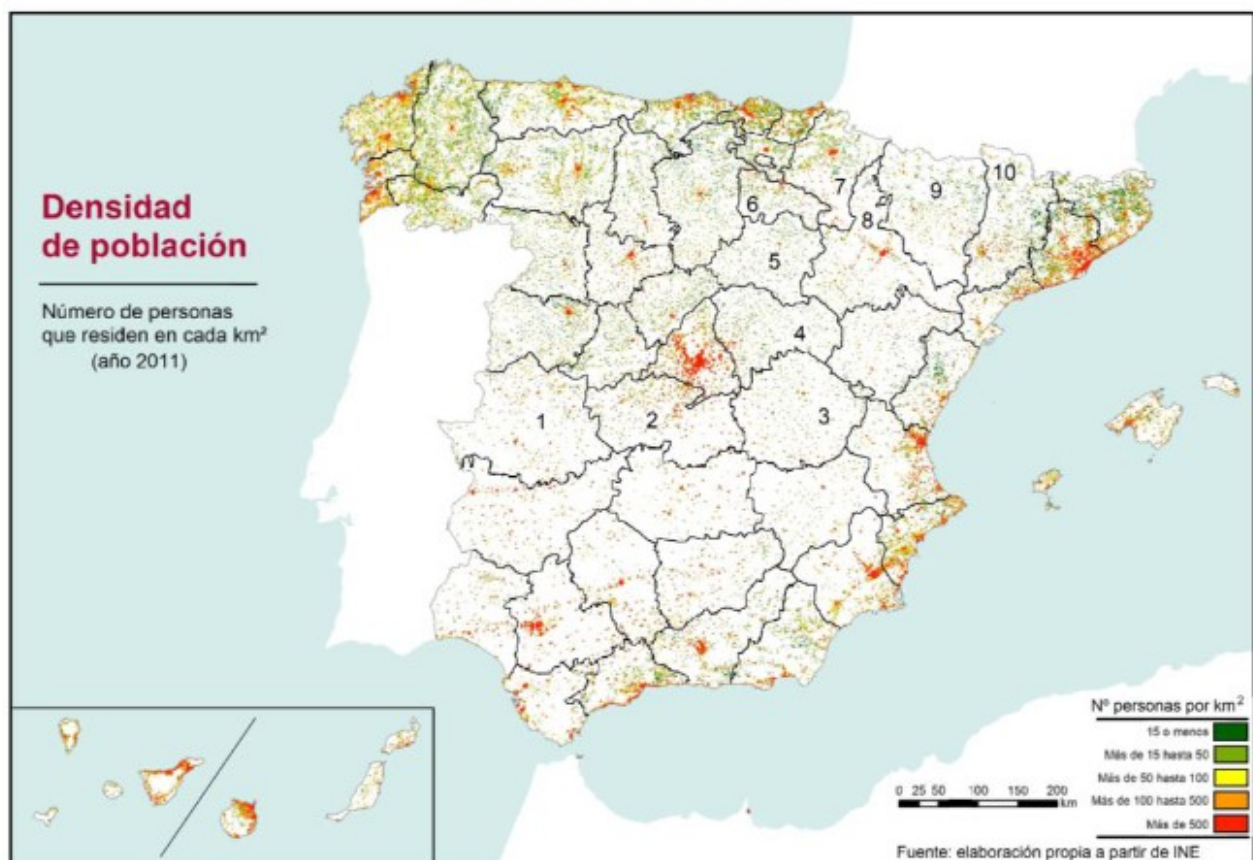
TEMA 6: LA POBLACIÓN ESPAÑOLA

Ejercicio nº 5

EJERCICIO 1. En el mapa nº 1 se muestra la densidad de población en el año 2011. Analicelo y conteste las siguientes cuestiones:

- Diga las 10 provincias que se encuentran numeradas (hasta 1 punto).
- Describa las características que se observan en la densidad de población de Andalucía (hasta 1 punto).
- Analice y comente las diferencias de la densidad de población en España, indicando las principales causas para esa distribución espacial (hasta 2 puntos).

EJERCICIO 1. MAPA 1

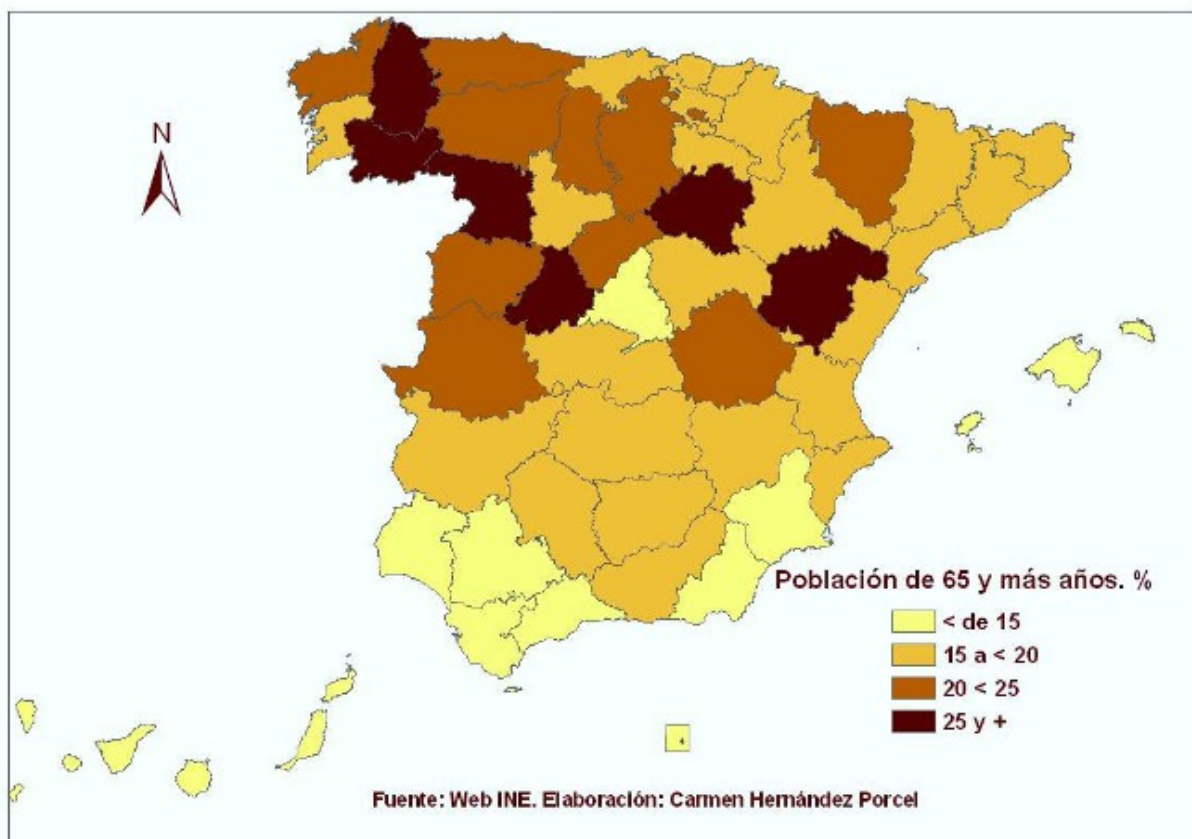


Ejercicio nº 6

EJERCICIO 1. En el mapa 1 se representa la población de 65 y más años en España, por provincias. Análcelo y responda a las siguientes cuestiones:

- Enumere las provincias donde la población con más de 65 años es superior al 25%. (Hasta 1 punto).
 - Describa las principales consecuencias del proceso de envejecimiento en dichas provincias. (Hasta 1 punto).
 - Explique las causas de la desigual distribución espacial de la población de mayor edad. (Hasta 2 puntos).
- (Valoración: hasta 4 puntos)

EJERCICIO 1. MAPA 1.

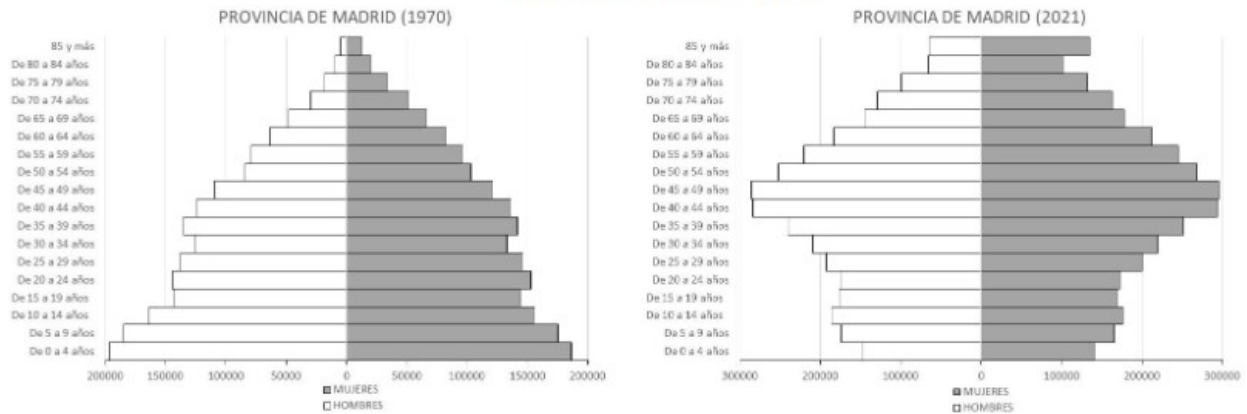


Ejercicio nº 7

EJERCICIO 1. Observe las pirámides de población correspondientes a la provincia de Madrid en los años 1970 y 2021. Analicelas y conteste las siguientes cuestiones:

- 1) Señala qué tipos de pirámides nos encontramos en esos 2 años, según la forma que se observa en ellas, y describe las características fundamentales de las mismas (hasta 1 punto).
- 2) Observa la pirámide de la provincia de Madrid en 1970 y explica las razones para el estrechamiento de las cohortes correspondientes a los grupos de edad 50-54 y 30-34 años (hasta 1 punto).
- 3) Explica las causas de la forma que se observa en la pirámide de 2021 y las consecuencias demográficas y socioeconómicas que se derivarán a medio plazo de la estructura de la población que se observa en ella (hasta 2 puntos).

EJERCICIO 1. GRÁFICOS.



TEMA 7: EL ESPACIO URBANO

Ejercicio nº 8

EJERCICIO 1. La figura 1 muestra una imagen aérea de la ciudad de Toledo. Conteste a las siguientes preguntas:

a) Defina el tipo de plano de la zona delimitada y razone la respuesta. (Hasta 1 punto)

b) Explique los factores del emplazamiento de la ciudad de Toledo. (Hasta 1 punto)

c) Explique los principales problemas que afectan hoy al casco antiguo de las ciudades españolas y comente qué medidas suelen aplicarse para solucionarlos. (Hasta 2 puntos)

(Valoración: Hasta 4 puntos)

EJERCICIO 1. FIGURA 1.



TEMA 8: EL ESPACIO RURAL

Ejercicio nº 9

EJERCICIO 2. En el mapa 2 se representa el porcentaje de población activa en el sector agrario y pesquero del último trimestre de 2021 sobre el total de población activa de cada provincia de España. Obsérvelo y conteste las siguientes cuestiones:

- Diga las provincias en las que el porcentaje está entre el 10% y el 19,9%. (Hasta 1 punto).
- Explique a qué se debe el porcentaje superior al 20% en las provincias correspondientes. (Hasta 1 punto).
- Explique a qué se deben los contrastes en el peso de la población activa agraria y pesquera entre las provincias españolas. (Hasta 2 puntos).

EJERCICIO 2. MAPA 2.

