

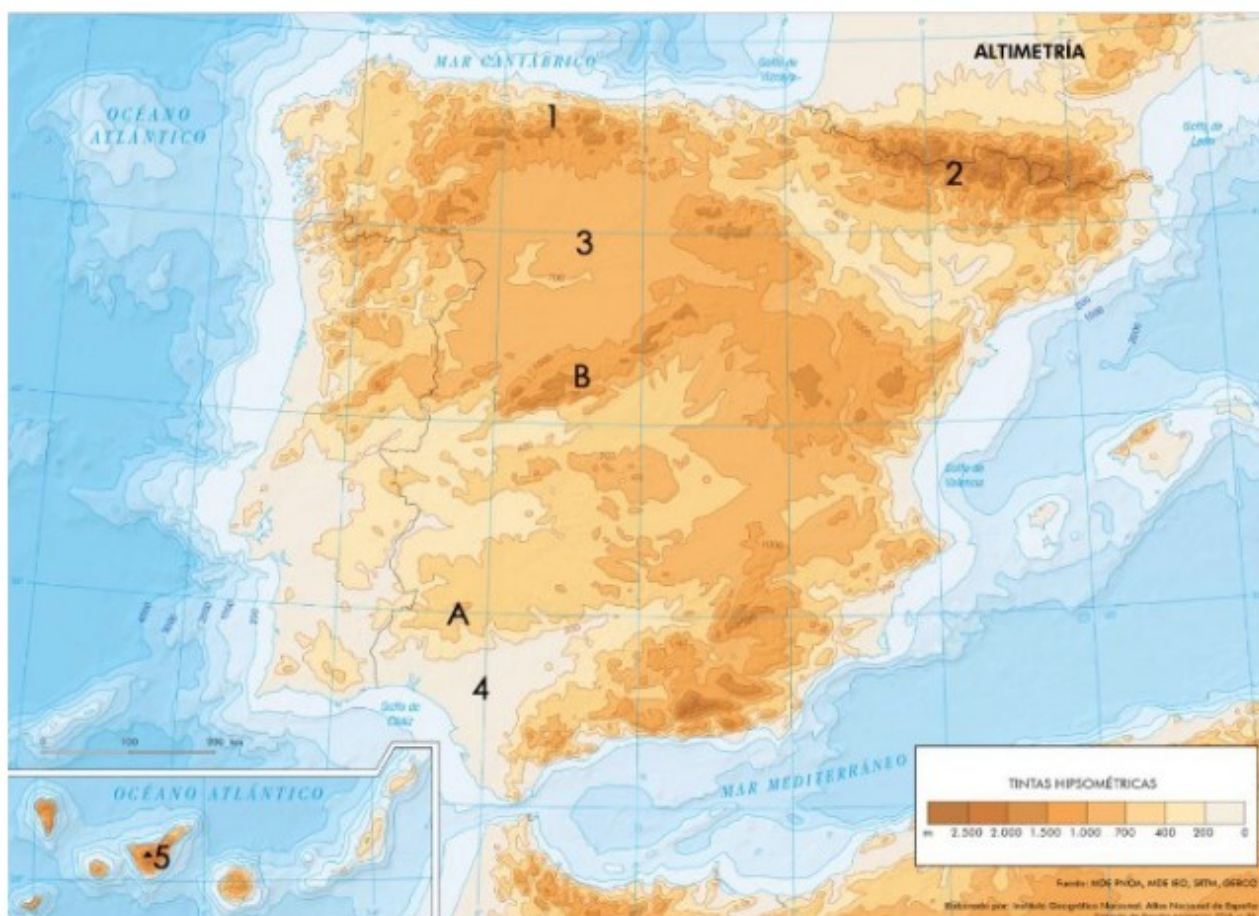
EJERCICIOS PRÁCTICOS GEOGRAFÍA SELECTIVIDAD 2018-2024

TEMA 2: EL RELIEVE

Ejercicio nº 1

El Mapa presenta la altitud sobre el nivel del mar en España. A partir del mismo responde a las siguientes cuestiones:

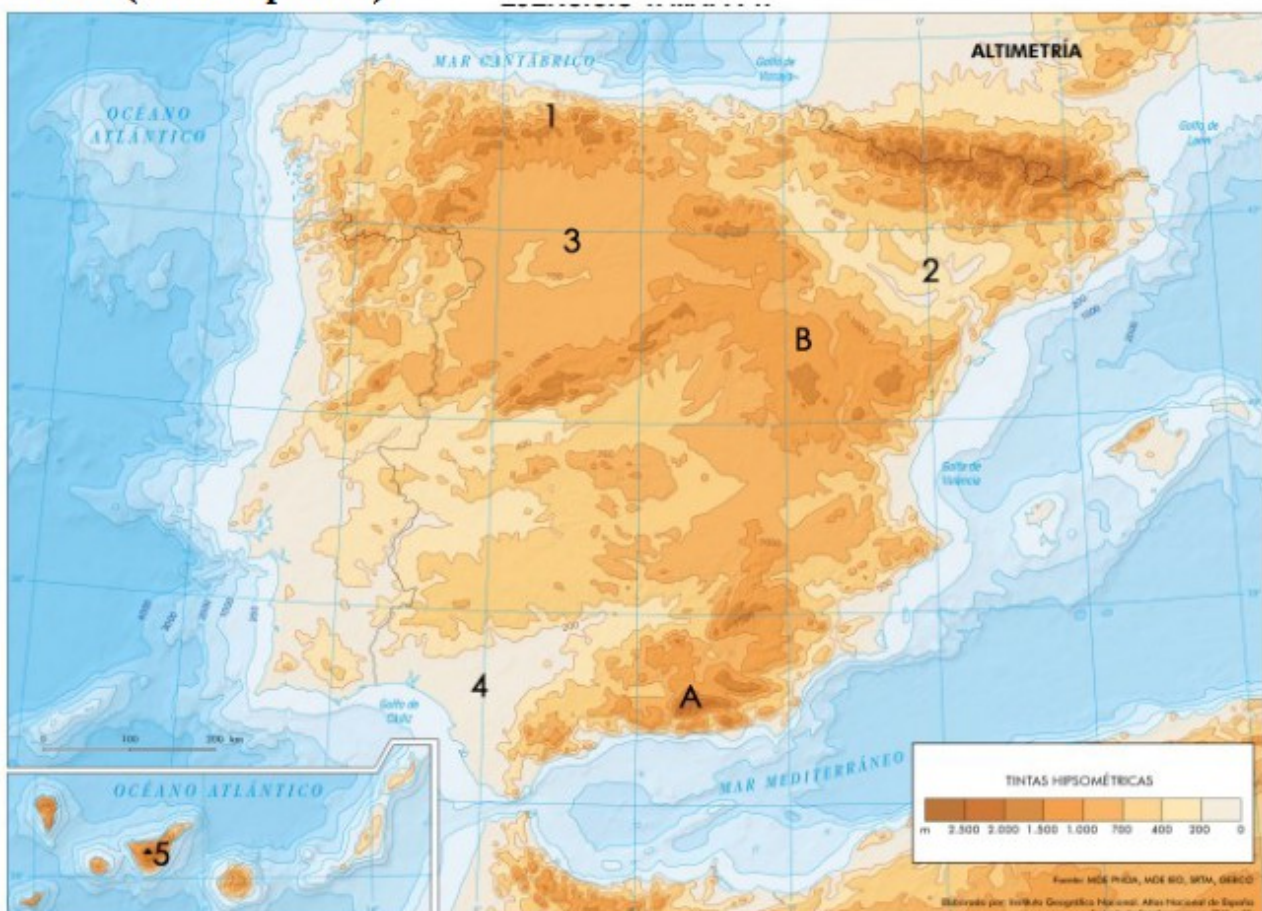
- a) Diga el nombre de las unidades de relieve señaladas numéricamente del 1 al 5. (Hasta 1 punto).
- b) Identifique y describa las características de los relieves señalados con las letras A y B. (Hasta 1 punto).
- c) Desarrolle las principales características de las unidades exteriores a la meseta. (Hasta 2 puntos).



Ejercicio nº 2

El Mapa presenta la altitud sobre el nivel del mar en España. A partir del mismo responda a las siguientes cuestiones:

- Diga el nombre de las unidades de relieve señaladas numéricamente del 1 al 5. (Hasta 1 punto).
- Identifique y describa las características de los relieves señalados con las letras A y B. (Hasta 1 punto).
- Desarrolle las principales características de las unidades interiores a la meseta. (Hasta 2 puntos).

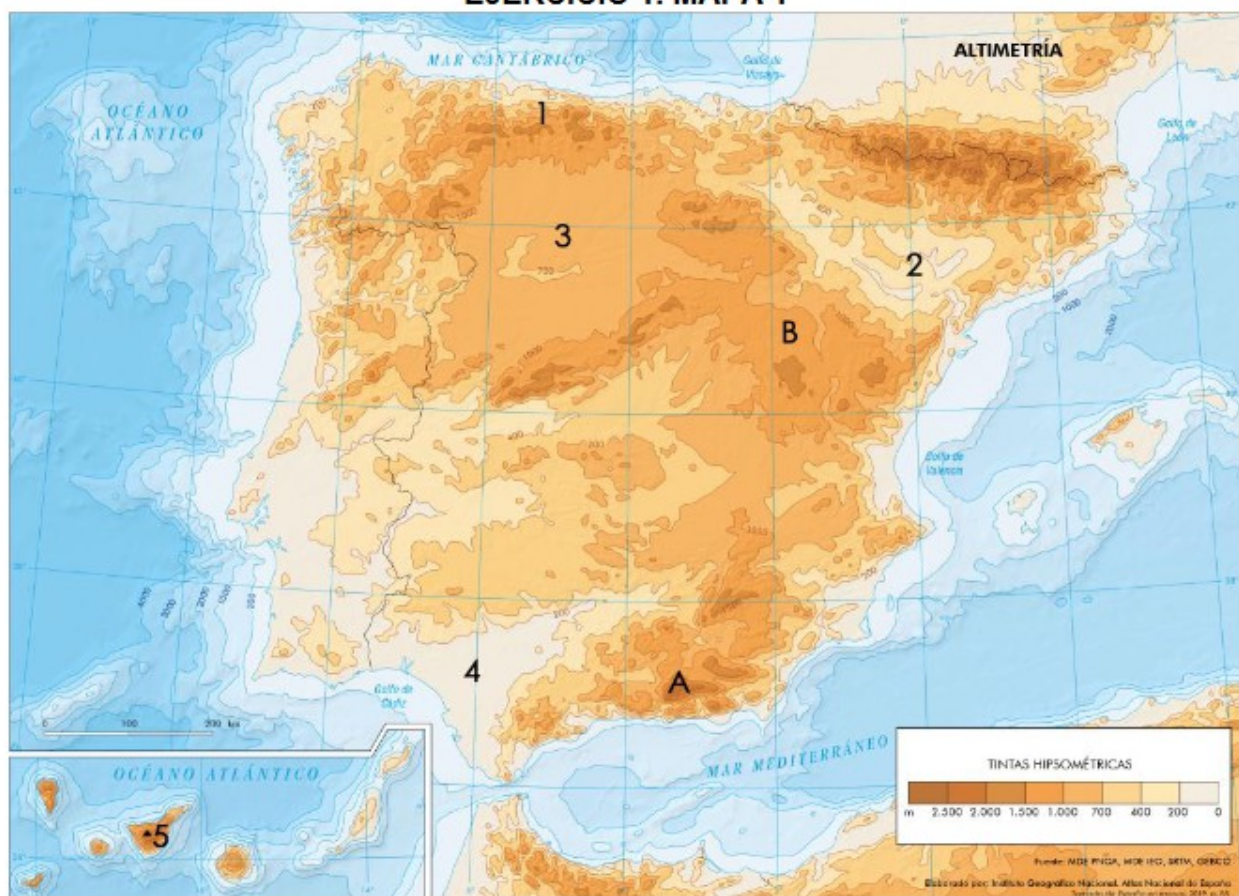


Ejercicio nº 3

EJERCICIO 1. A continuación se presenta un mapa de altitudes sobre el nivel del mar de España. A partir del mismo responda a las siguientes cuestiones:

- Diga el nombre de las unidades de relieve señaladas numéricamente del 1 al 5. (Hasta 1 punto).
- Identifique y describa las características de los relieves señalados con las letras A y B. (Hasta 1 punto).
- Explique el origen de la formación de las principales zonas altitudinales que se observan en el mapa. (Hasta 2 puntos).

EJERCICIO 1. MAPA 1



fuente: MGE, INCG, MGE, ICG, SERVA, GRINGO
 Elaborado por: Instituto Geográfico Nacional, Atlas Nacional de España
 Servicio de Información Geográfica, 2015, p. 55

Ejercicio nº 4

En el mapa que se reproduce a continuación se representan los dominios litológicos de la península ibérica. A la vista del mismo responda a las siguientes cuestiones:

- a) Describa el ámbito de implantación de cada uno de ellos, aludiendo a las principales unidades de relieve y sistemas montañosos que comprende. (Hasta 1 punto).
- b) Indique el nombre de las cinco provincias que tienen mayor implantación en cada uno. (Hasta 1 punto).
- c) Explique el origen geológico del dominio calizo. (Hasta 2 puntos)



Ejercicio nº 5

EJERCICIO 1. El mapa muestra las unidades litológicas de la península ibérica e islas. Tras su observación responda a las siguientes cuestiones:

- Indique cuatro Comunidades Autónomas que tengan parte o todo su territorio asentado sobre el dominio silíceo. (Hasta 1 punto).
- Describa la distribución del dominio litológico arcilloso y explique su origen. (Hasta 1 punto).
- Explique razonadamente la relación existente entre cada uno de los dominios y los usos y aprovechamientos agrarios. (Hasta 2 puntos).



TEMA 3: EL CLIMA

Ejercicio nº 7

En el mapa siguiente está representado el territorio que ocupa cada uno de diferentes tipos climáticos de España. Con esta información conteste a siguientes preguntas:

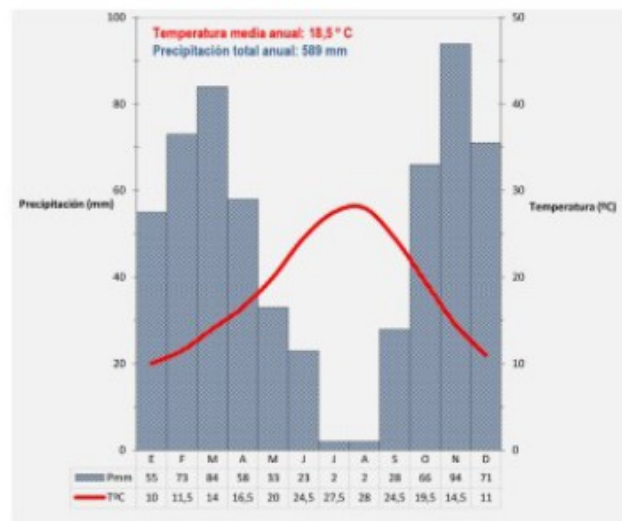
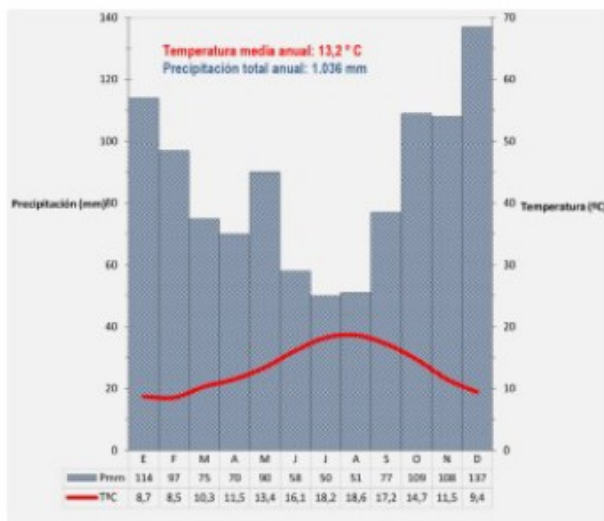
- a) Cite el nombre de las provincias con clima mediterráneo semiárido. (Hasta punto).**
- b) Describa las unidades de relieve que se ven afectadas por el clima montaña y explique los efectos que provoca el relieve sobre el clima. (Hasta punto).**
- c) Analice las similitudes y diferencias que existen entre el clima mediterráneo interior y el clima mediterráneo de costa. (Hasta 2 puntos).**



Ejercicio nº 8

EJERCICIO 2. Los gráficos representan dos climas característicos de España. Analícelos y responda a las preguntas siguientes:

- Explique las variaciones estacionales de temperatura y precipitación en cada uno de los climogramas. (Hasta 1 punto).
- Defina el concepto de aridez mensual y explique cómo se representa en el climograma correspondiente. (Hasta 1 punto).
- Basándose en los datos anteriores explique razonadamente qué tipo de clima representa cada uno de los climogramas. (Hasta 2 puntos).



Ejercicio nº 9

EJERCICIO 2. A continuación se reproduce un mapa de España de temperaturas medias anuales. Obsérvelo con atención y responda a las siguientes cuestiones:

- Diga 10 provincias cuya temperatura media supere los 20°. (Hasta 1 punto).
- Explique las diferencias de temperatura entre los litorales mediterráneo y cantábrico. (Hasta 1 punto).
- Establezca las relaciones entre la actividad turística y la distribución de la temperatura media en España. (Hasta 2 puntos).

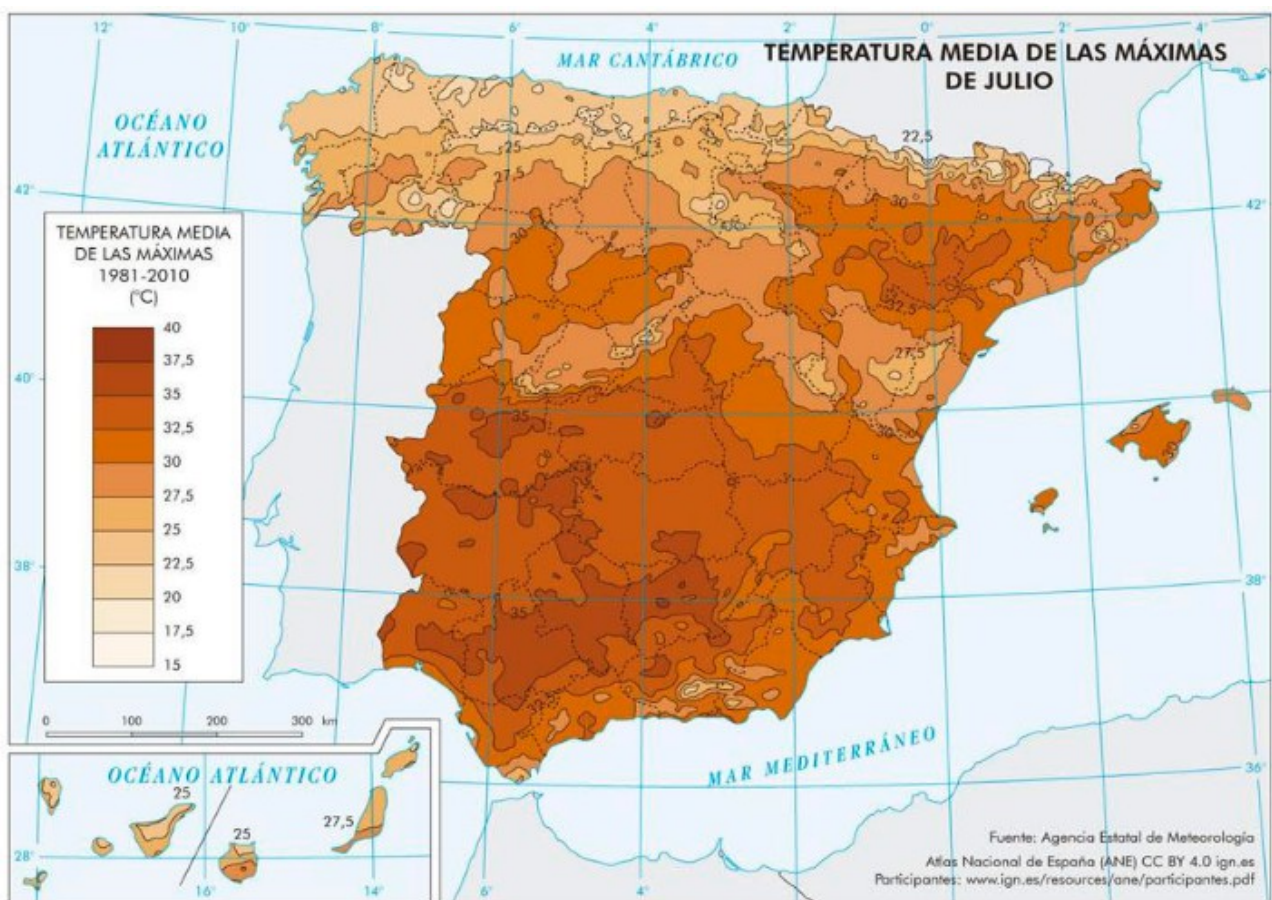
EJERCICIO 2. MAPA 2



Ejercicio nº 10

EJERCICIO 2. El mapa muestra la temperatura media de las máximas de julio. Tras su observación responda a las siguientes cuestiones:

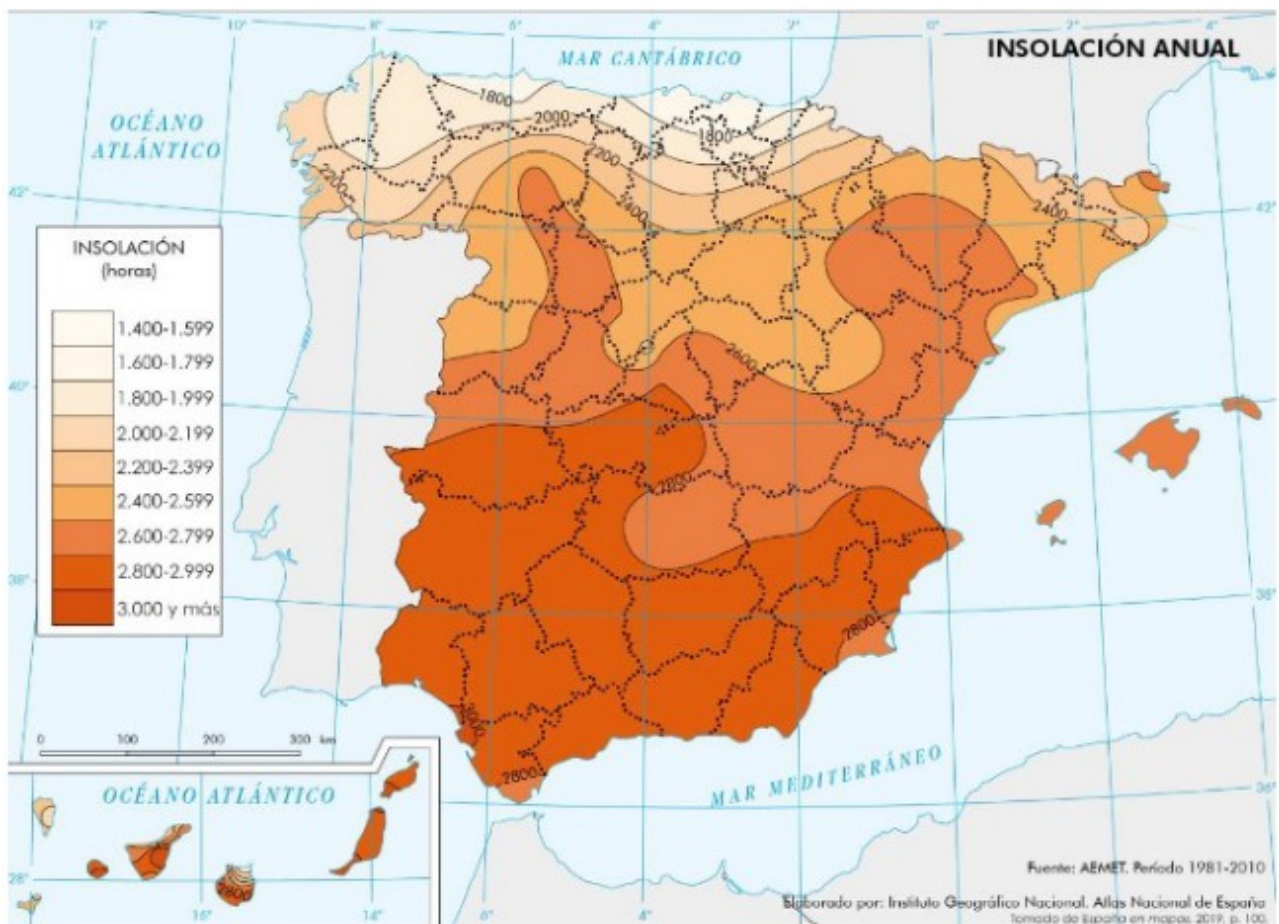
- Indique cinco provincias con temperaturas medias inferiores a 27,5°C. (Hasta 1 punto).
- Explique las diferencias de temperatura entre los litorales mediterráneo y cantábrico. (Hasta 1 punto).
- Explique las características del clima mediterráneo andaluz y su relación con las olas de calor: causas, distribución espacial y consecuencias. (Hasta 2 puntos).



Ejercicio nº 11

El Mapa muestra la insolación en España. Analízelo y responda a las siguientes cuestiones:

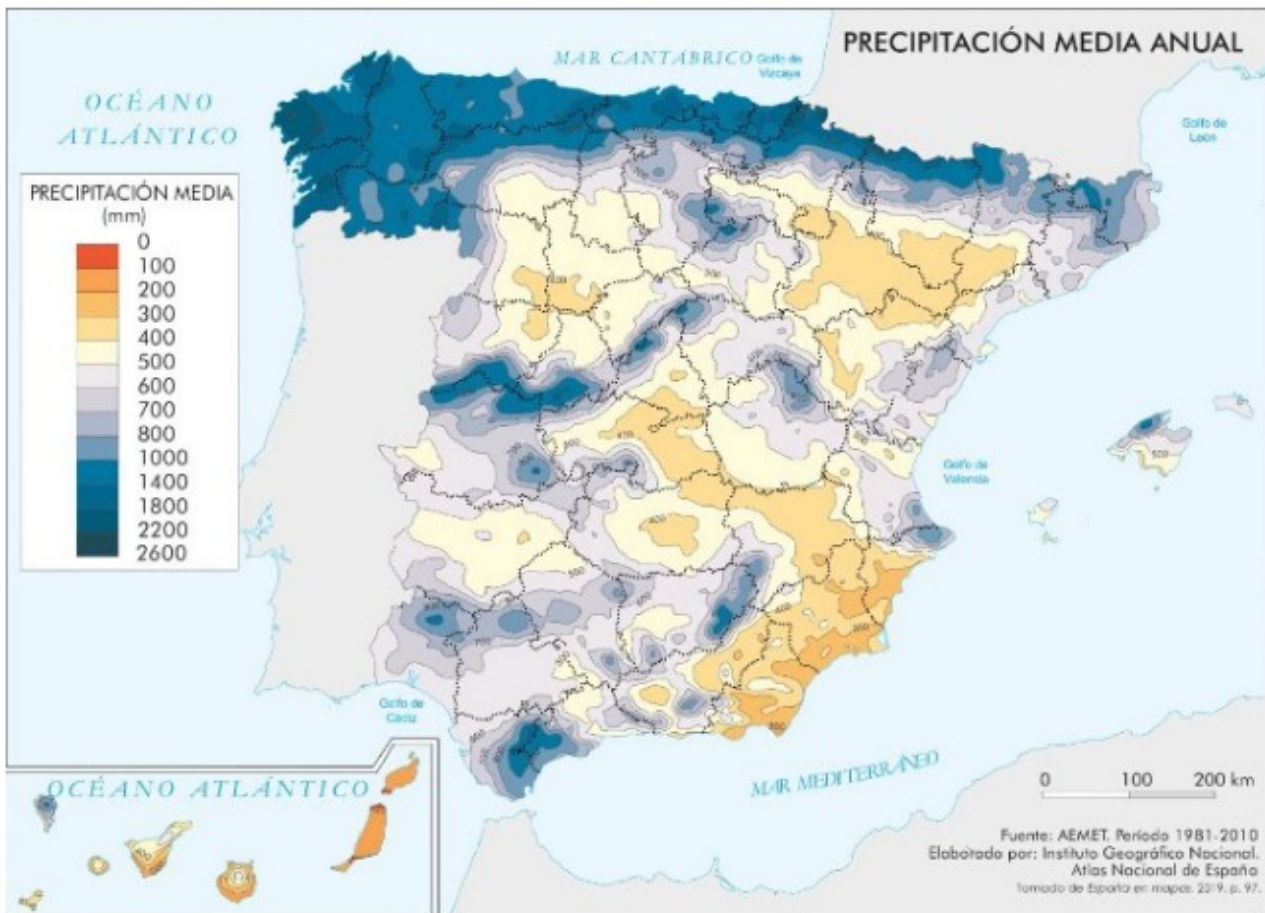
- a) ¿Qué provincias peninsulares reciben en su totalidad o parte de su territorio una insolación anual inferior a 2.000 horas/año? (Hasta 1 punto).**
- b) Comente los factores naturales que explican los diferentes niveles de insolación anual en España. (Hasta 1 punto).**
- c) ¿De qué manera repercute la insolación anual en las actividades turísticas y su localización? (Hasta 2 puntos).**



Ejercicio nº 12

El Mapa representa la distribución de las precipitaciones en España. Analícelo y responda a las siguientes preguntas:

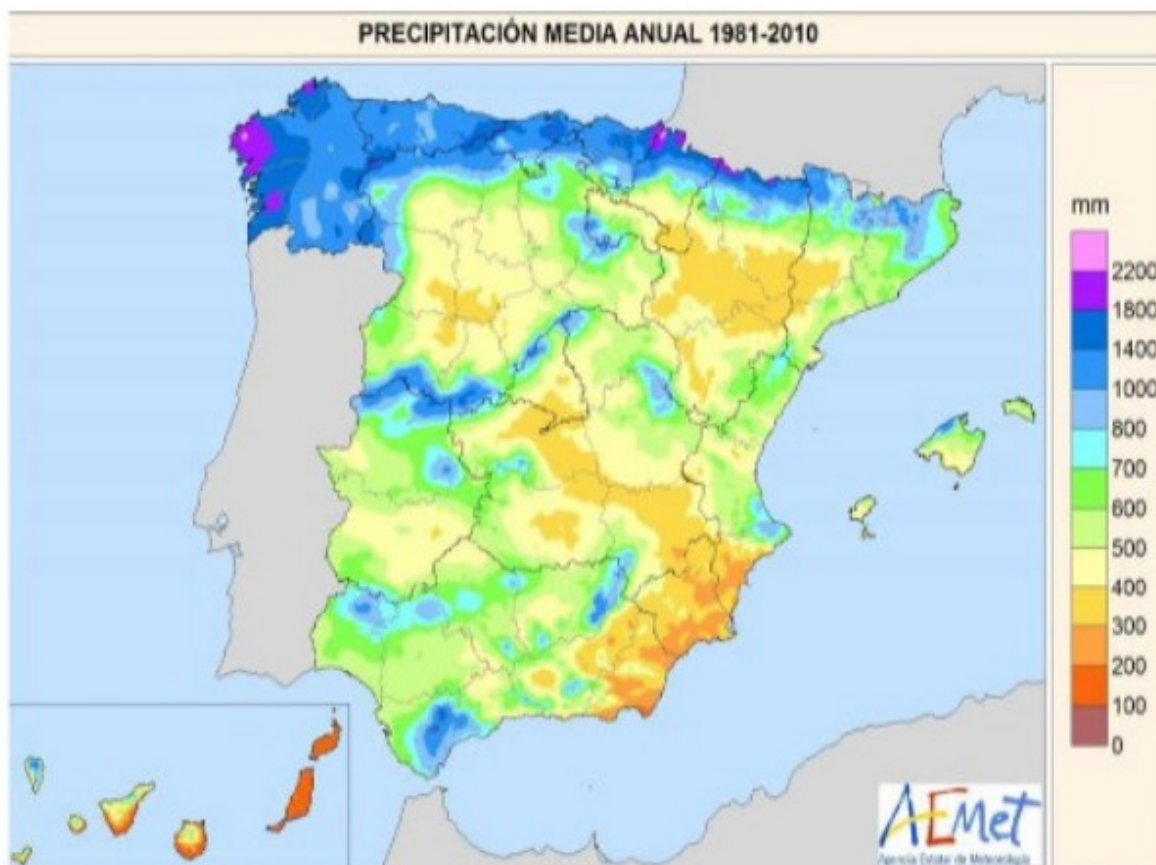
- a) Indique las provincias que incluyen zonas con precipitaciones entre 0 y 300 mm/anales. (Hasta 1 punto).**
- b) Comente la relación existente entre las precipitaciones y el relieve en España. (Hasta 1 punto).**
- c) Compare las precipitaciones del Noroeste peninsular con las del Sureste peninsular, estableciendo las diferencias existentes y sus causas. (Hasta 2 puntos).**



Ejercicio nº 13

En el mapa siguiente se muestra la precipitación media anual en España durante el periodo 1981-2010. A partir del mismo responda a las siguientes cuestiones:

- a) Cite el nombre de las provincias donde se han registrado precipitaciones medias anuales superiores a 1.000 mm. (Hasta 1 punto).
- b) Comente la relación que existe entre los valores de precipitación y el relieve peninsular. (Hasta 1 punto).
- c) Compare los valores de precipitación que se registran en el noroeste peninsular con los que se registran en el sudeste de la península ibérica. Diga las diferencias que existen y razone los motivos que explican dichas diferencias. (Hasta 2 puntos).



TEMA 4: LAS AGUAS Y LA RED HIDROGRÁFICA

Ejercicio nº 14

EJERCICIO 1. En el mapa adjunto se representan los principales ríos y las cuencas hidrográficas de España. Analízelo y responda a las siguientes preguntas:

- Diga el nombre de las cuencas de la vertiente mediterránea. (Hasta 1 punto).
- Explique los tipos de regímenes fluviales que tienen los ríos de la vertiente cantábrica. (Hasta 1 punto).
- Describa las características generales de los ríos de la vertiente atlántica. (Hasta 2 puntos).

EJERCICIO 1. MAPA 1.

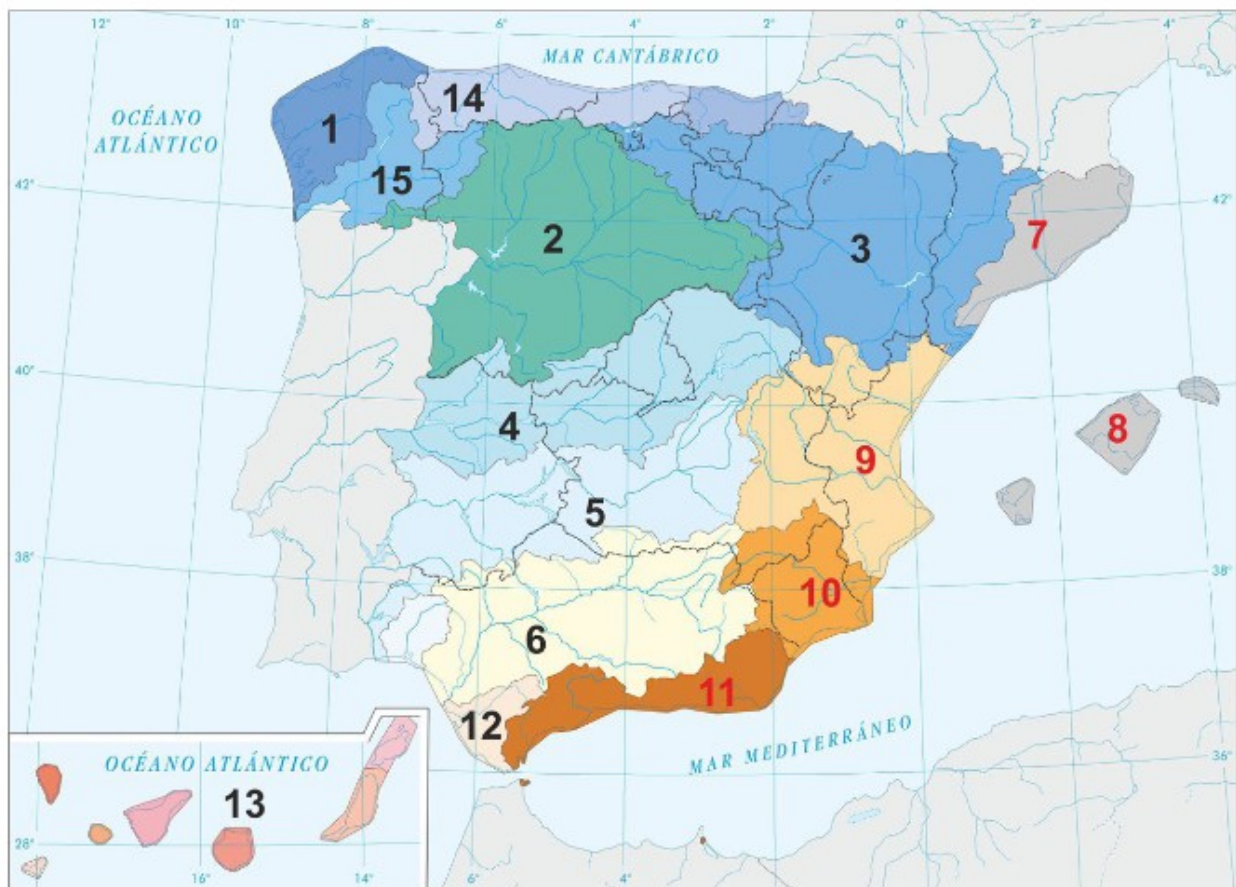


Ejercicio nº 15

EJERCICIO 2. En el mapa 2 se representan los principales ríos y las cuencas hidrográficas de España. Analícelo y responda a las siguientes preguntas:

- a) Escriba el nombre de las cuencas enumeradas en el mapa. (Hasta 1 punto).
- b) Describa las características generales de la vertiente atlántica. (Hasta 1 punto).
- c) ¿Qué tipo de regímenes fluviales tienen los ríos de la vertiente mediterránea? Razone la respuesta. (Hasta 2 puntos).

EJERCICIO 2. MAPA 2.



Ejercicio nº 16

EJERCICIO 1. El mapa muestra los tipos de régimen fluvial en España. Tras su observación responda a las siguientes cuestiones:

- Indique las cuencas hidrográficas marcadas con los números 1 al 10. (Hasta 1 punto).
- Relacione los regímenes nivopluvial y pluvionival con los lugares en los que se localizan. (Hasta 1 punto).
- Principales características de los ríos con régimen fluvial mediterráneo. (Hasta 2 puntos).



Ejercicio nº 17

El Mapa representa las principales cuencas hidrográficas de la Península Ibérica, Baleares y Canarias. Analízelo y responda a las preguntas siguientes:

- a) ¿Qué Comunidades Autónomas se encuentran total o parcialmente dentro de la cuenca hidrográfica 3? (Hasta 1 punto).**
- b) Exprese el nombre de los principales ríos que alimentan cada una de las cuencas indicadas con los números del 1 al 6 (Hasta 1 punto).**
- c) Explique las razones de los contrastes de los valores del balance hídrico positivo de las cuencas de la vertiente atlántica peninsular con relación a la vertiente mediterránea (enumeradas del 7 al 11) donde es negativo. (Hasta 2 puntos).**



Ejercicio nº 18

En el Mapa aparecen los tipos de régimen fluvial de los ríos en España. Obsérvelo y conteste a las siguientes preguntas:

- a) Enumere cinco ríos de régimen pluvial mediterráneo o pluvial subtropical. (Hasta 1 punto).
- b) ¿Qué diferencia hay entre régimen pluvial y régimen nival? (Hasta 1 punto).
- c) ¿Cuál es la dirección dominante de los principales ríos de la península ibérica? Explique las causas. (Hasta 2 puntos).

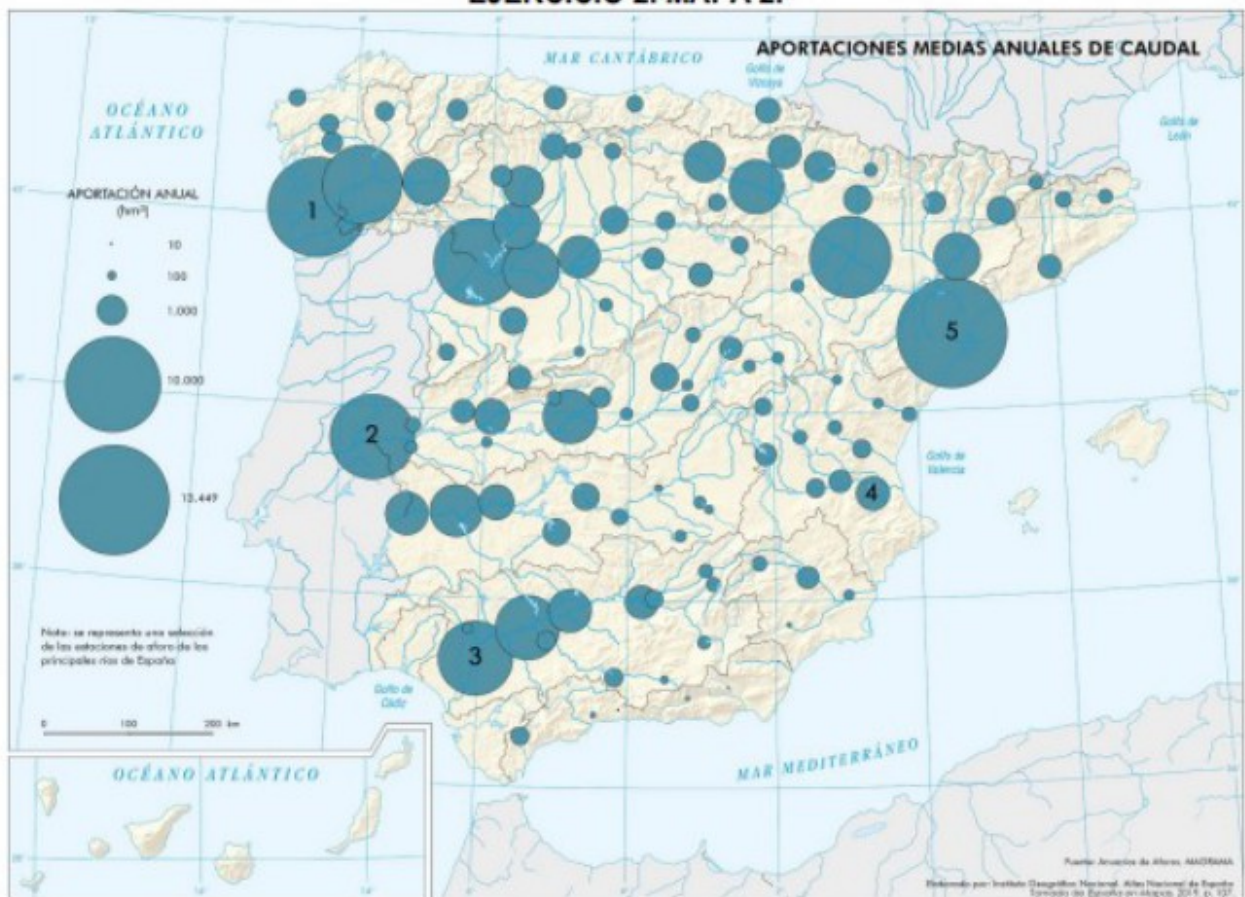
En el mapa aparecen los tipos de régimen fluvial de los ríos de España. Obsérvelo y conteste a las siguiente preguntas: a) Enumere cinco ríos de la vertiente mediterránea española. (Hasta 1 punto). b) ¿Qué diferencia hay entre el concepto de cuenca hidrográfica y el de red hidrográfica? (Hasta 1 punto).



Ejercicio nº 19

EJERCICIO 2. El mapa 2 representa las aportaciones medias anuales de caudal de la red hidrográfica española. Analicelo y responda a las preguntas siguientes:

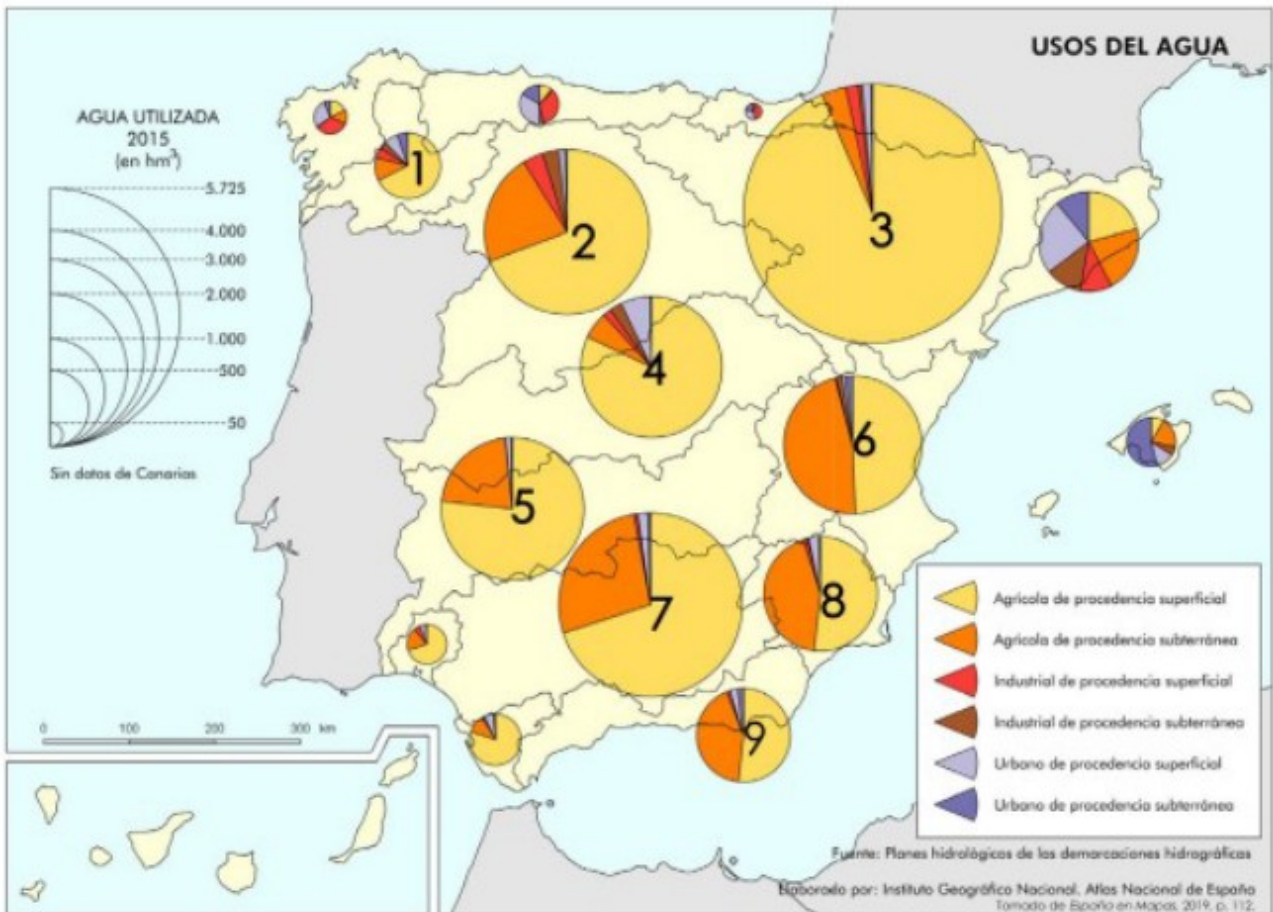
- a) Diga el nombre de los ríos enumerados del 1 al 5. (Hasta 1 punto).
- b) ¿A qué se debe la ausencia de ríos en las islas Baleares y Canarias? (Hasta 1 punto).
- c) Explique las razones de los contrastes entre los aportes de caudal de los distintos ríos de la vertiente mediterránea, relacionándolos con el régimen fluvial y la orografía. (Hasta 2 puntos).



Ejercicio nº 20

EJERCICIO 1. En el mapa 1 aparece el reparto de usos del agua por cuencas hidrográficas. Obsérvelo y conteste a las siguientes preguntas:

- a) ¿Con qué ríos se identifican las cuencas hidrográficas enumeradas del 1 al 5? (Hasta 1 punto).
- b) ¿Cuál es la causa del reparto de uso de aguas en las cuencas 6, 8 y 9? (Hasta 1 punto).
- c) ¿A qué se deben los contrastes de volumen agua utilizada entre las cuencas 1, 3 y 7? Explique las causas. (Hasta 2 puntos).



TEMA 5: LAS REGIONES BIOGEOGRÁFICAS

Ejercicio nº 21

EJERCICIO 2. El mapa representa las regiones biogeográficas y subprovincias de España. Obsérvelo y conteste a las siguientes cuestiones:

- Indique cinco provincias por donde se distribuye la subprovincia Luso-Extremadurensis (Ilcb). (Hasta 1 punto).
- ¿Qué características hacen de las islas Canarias una región biogeográfica especial? (Hasta 1 punto).
- Enumere y explique los factores que condicionan las diferentes regiones biogeográficas. (Hasta 2 puntos).



Ejercicio nº 22

El Mapa representa las regiones biogeográficas y subprovincias de España. Obsérvelo y conteste las siguientes cuestiones:

- ¿Qué provincias de carácter administrativo forman parte de la Subprovincia Oroibérica (llbb)? (Hasta 1 punto).
- ¿Qué características climáticas hacen de las islas Canarias una región biogeográfica especial? (Hasta 1 punto).
- Explique la relación existente entre las condiciones físicas del territorio y las diferentes regiones biogeográficas (Hasta 2 puntos).



Ejercicio nº 23

EJERCICIO 2. El mapa 2 representa las regiones biogeográficas y subprovincias de España. Obsérvelo y conteste las siguientes cuestiones:

- ¿Por qué provincias de carácter administrativo se distribuye la Subprovincia Bajoaragonesa altoebreense (llba)? (Hasta 1 punto).
- ¿Qué características hacen de las islas Canarias una región biogeográfica especial? (Hasta 1 punto).
- Explique la relación existente entre las condiciones del territorio y las diferentes regiones biogeográficas (Hasta 2 puntos).



Ejercicio nº 24

Observe el mapa y contestelas siguientes cuestiones:

- a) ¿Con qué comunidades autónomas se relaciona la región eurosiberiana?(Hasta 1 punto).
- b) Compara las características climáticas de la región eurosiberiana y mediterránea y cita algunas de sus especies arbóreas más representativas. (Hasta 1 punto).
- c) ¿Qué características climáticas hacen de las islas Canarias una región biogeográfica especial? (Hasta 2 puntos).



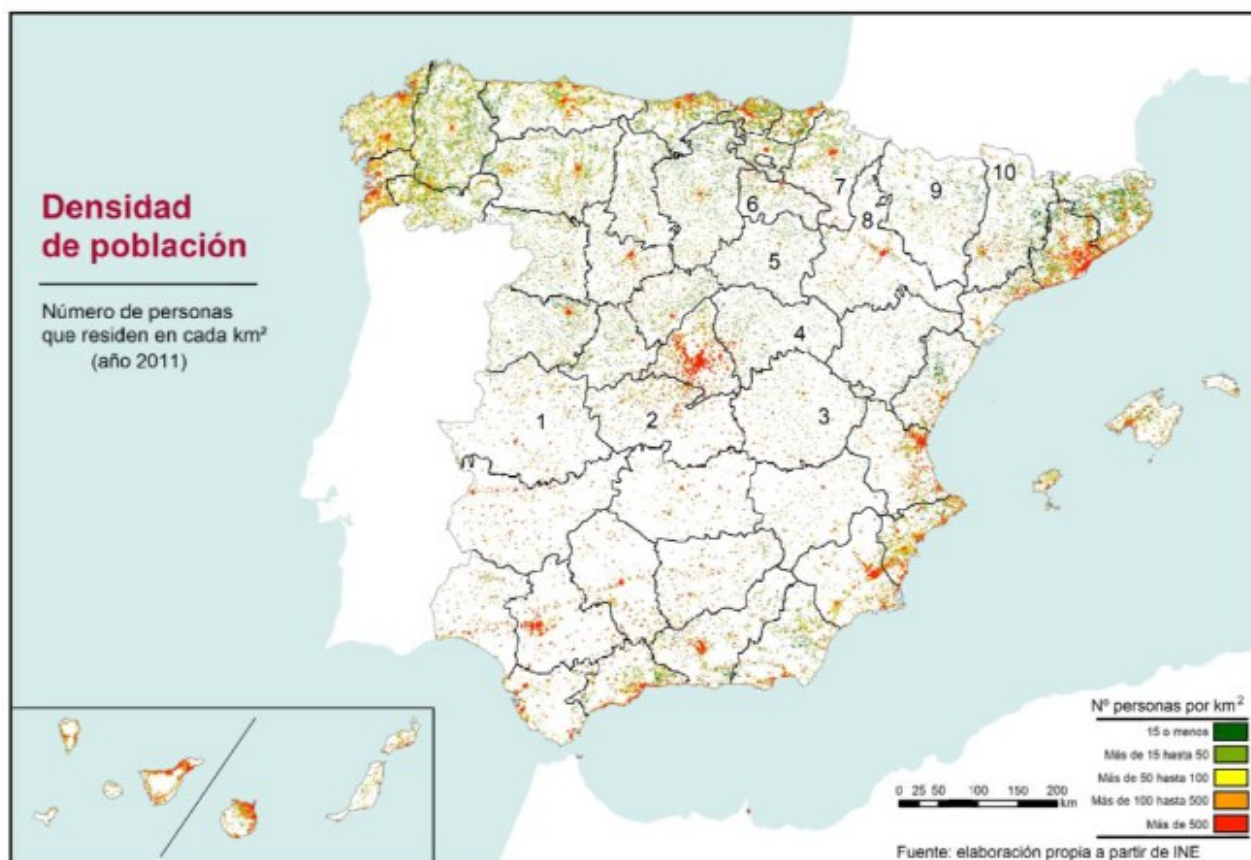
TEMA 6: LA POBLACIÓN ESPAÑOLA

Ejercicio nº 25

EJERCICIO 1. En el mapa nº 1 se muestra la densidad de población en el año 2011. Analicelo y conteste las siguientes cuestiones:

- Diga las 10 provincias que se encuentran numeradas (hasta 1 punto).
- Describa las características que se observan en la densidad de población de Andalucía (hasta 1 punto).
- Analice y comente las diferencias de la densidad de población en España, indicando las principales causas para esa distribución espacial (hasta 2 puntos).

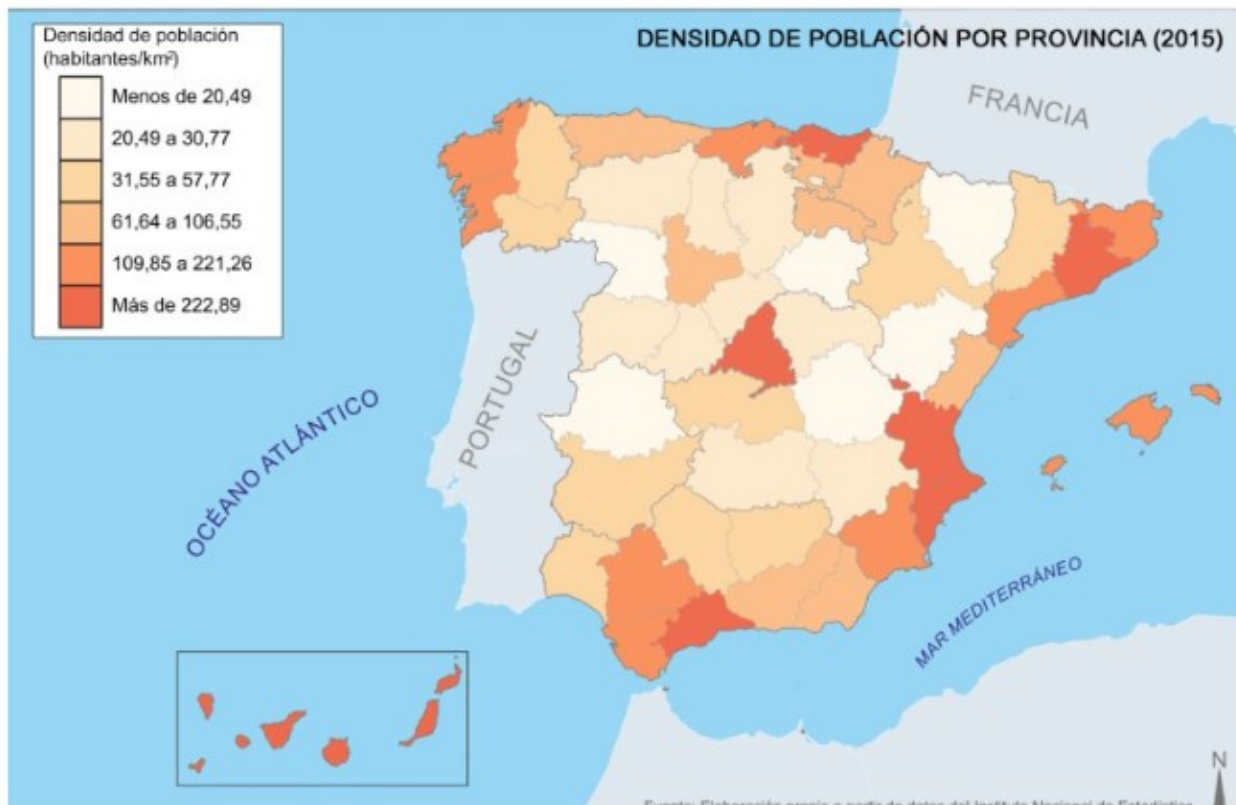
EJERCICIO 1. MAPA 1



Ejercicio nº 26

En el Mapa se representa la densidad de población por provincias de España en 2015. Analícelo y responda a las siguientes cuestiones:

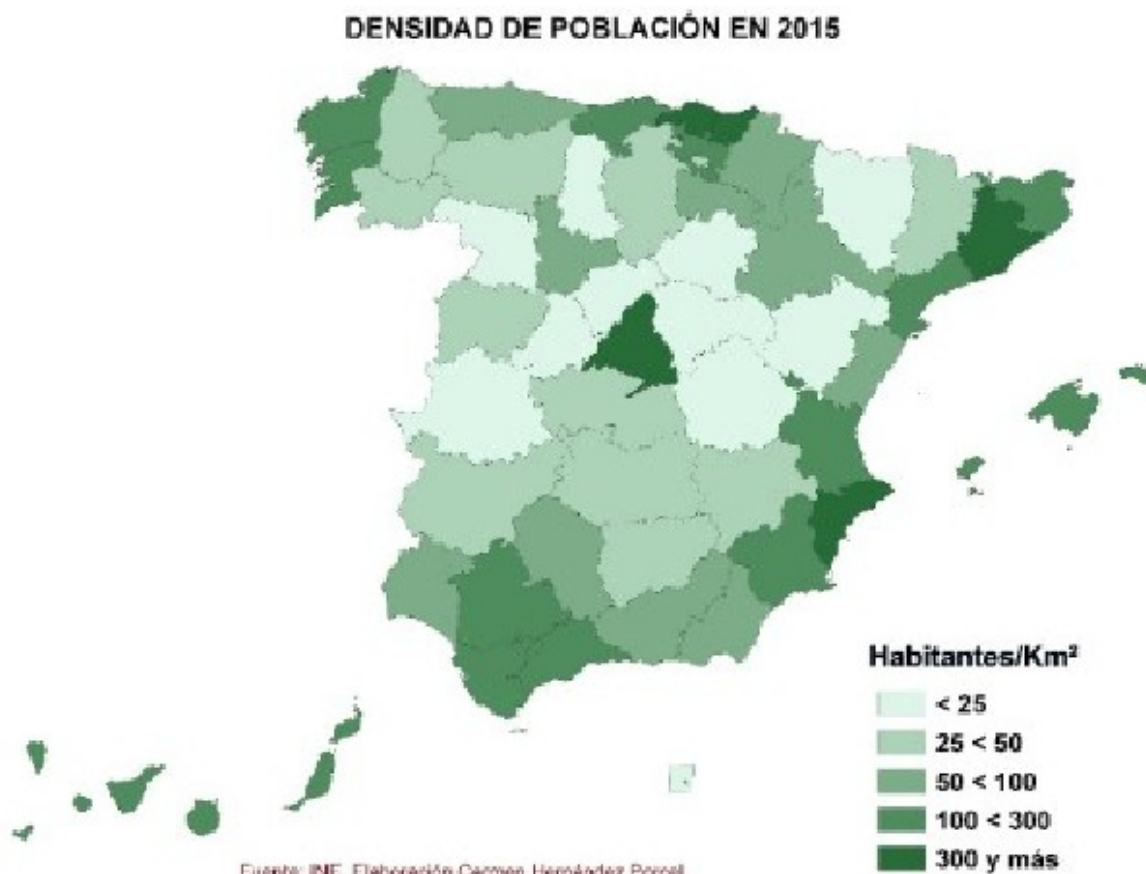
- a) ¿Qué provincias tienen una densidad inferior a 20,49 habitantes por km²? (Hasta 1 punto).**
- b) Analice y comente las diferencias de densidad entre las provincias españolas en 2015 (Hasta 1 punto).**
- c) Explique las causas de la distribución espacial de la población y justifique el caso de Madrid (Hasta 2 puntos).**



Ejercicio nº 27

En el mapa siguiente se representa la densidad de población de España en 2015 por provincias. Analícelo y responda a las siguientes cuestiones:

- a) ¿Qué provincias tienen una densidad de menos de 25 habitantes por Km²? (Hasta 1 punto).
- b) Analice y comente las diferencias de densidad entre las provincias españolas en 2015. (Hasta 1 punto).
- c) Explique las causas de la distribución espacial de la población y justifique el caso de Barcelona. (Hasta 2 puntos)



Ejercicio nº 28

En el siguiente mapa se representa la tasa media anual de paro de las provincias españolas para el año 2018. Analícelo y responda a las preguntas que se plantean.

- a) Señale el nombre de las provincias españolas que en el tercer trimestre de 2018 arrojaban una tasa de paro por debajo del 10% de la población activa y de las CC.AA. que tenían, al menos, una de sus provincias con tasas entre el 20-25%. (Hasta 1 punto).
- b) A la vista del mapa describa, de manera general, cómo es la distribución geográfica de la tasa de paro en España y aporte algunas razones explicativas. (Hasta 1 punto).
- c) Aporte algunas razones explicativas de las notables diferencias entre algunas provincias con menor y mayor tasa de desempleo. (Hasta 2 punto)

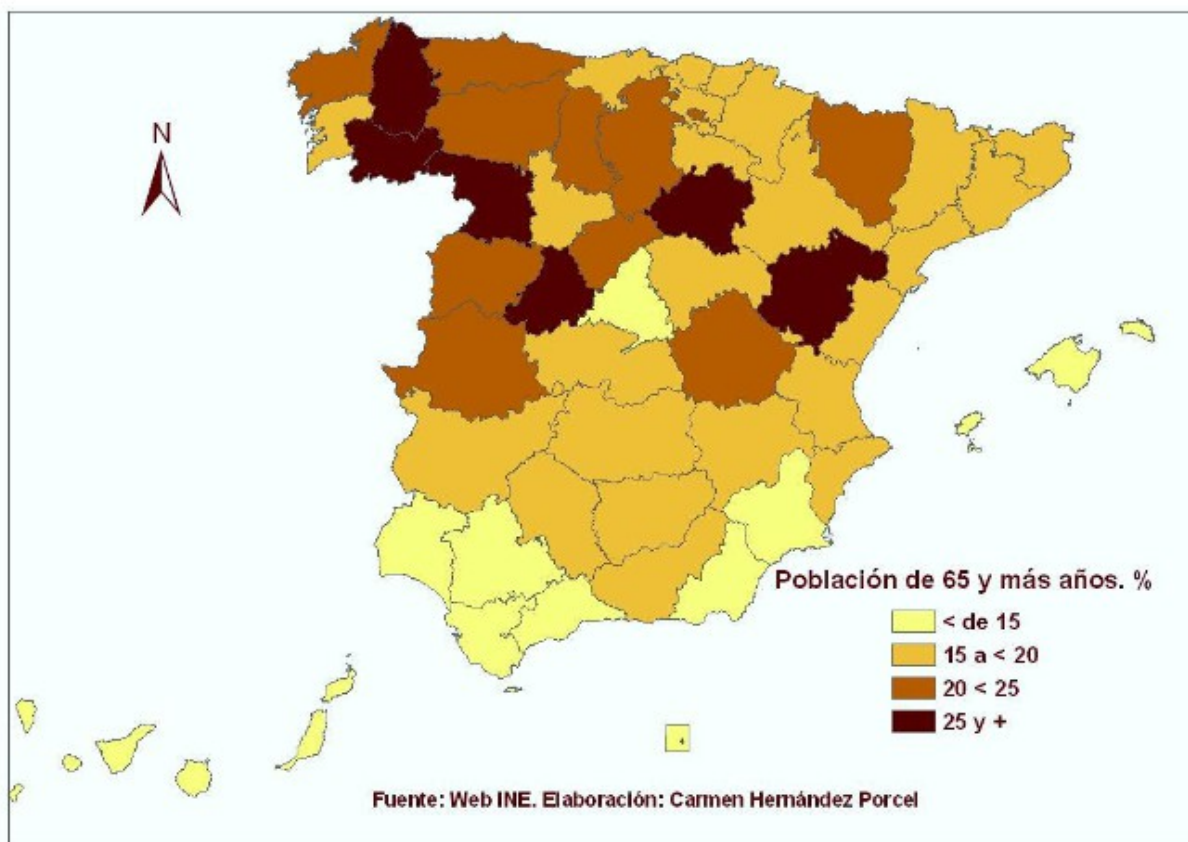


Ejercicio nº 29

EJERCICIO 1. En el mapa 1 se representa la población de 65 y más años en España, por provincias. Análcelo y responda a las siguientes cuestiones:

- Enumere las provincias donde la población con más de 65 años es superior al 25%. (Hasta 1 punto).
 - Describa las principales consecuencias del proceso de envejecimiento en dichas provincias. (Hasta 1 punto).
 - Explique las causas de la desigual distribución espacial de la población de mayor edad. (Hasta 2 puntos).
- (Valoración: hasta 4 puntos)

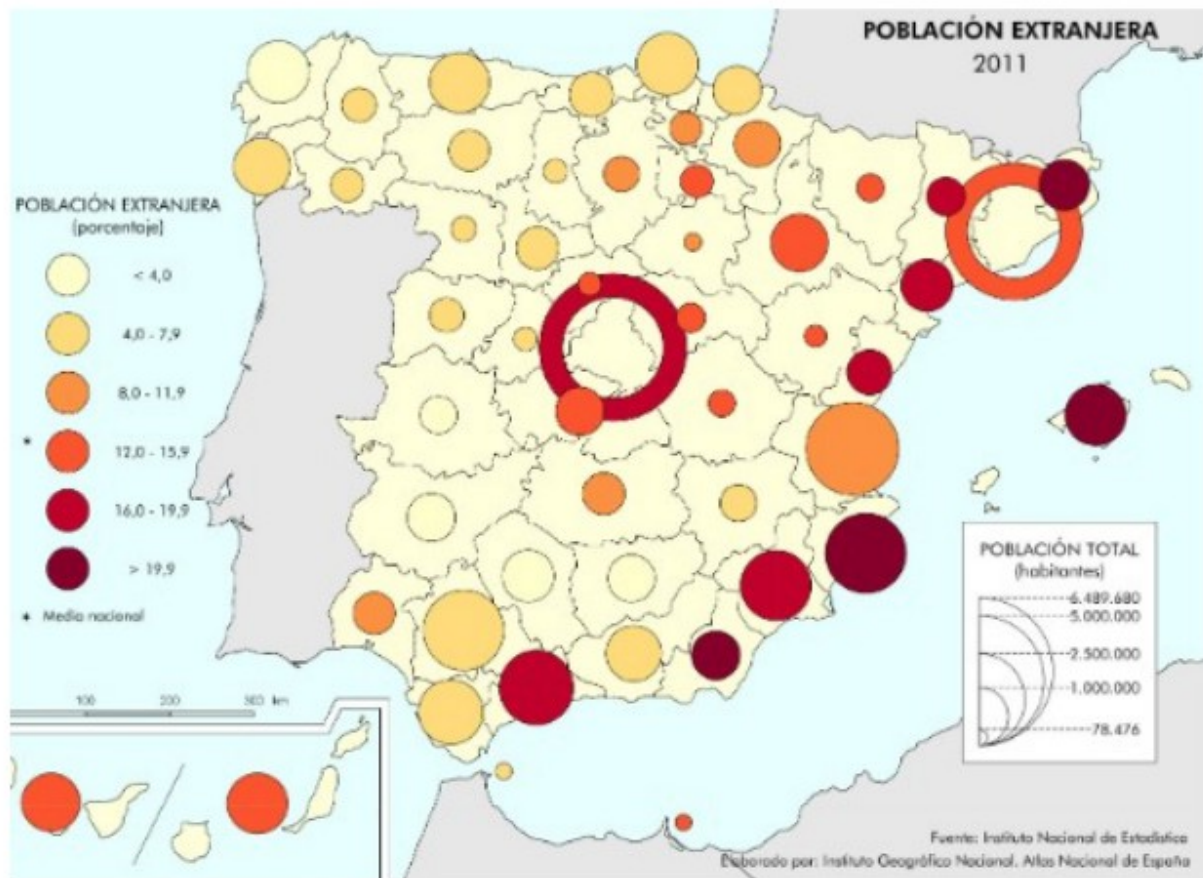
EJERCICIO 1. MAPA 1.



Ejercicio nº 30

El mapa siguiente representa el porcentaje de población extranjera en las provincias españolas en 2011. Analícelo y responda a las siguientes preguntas:

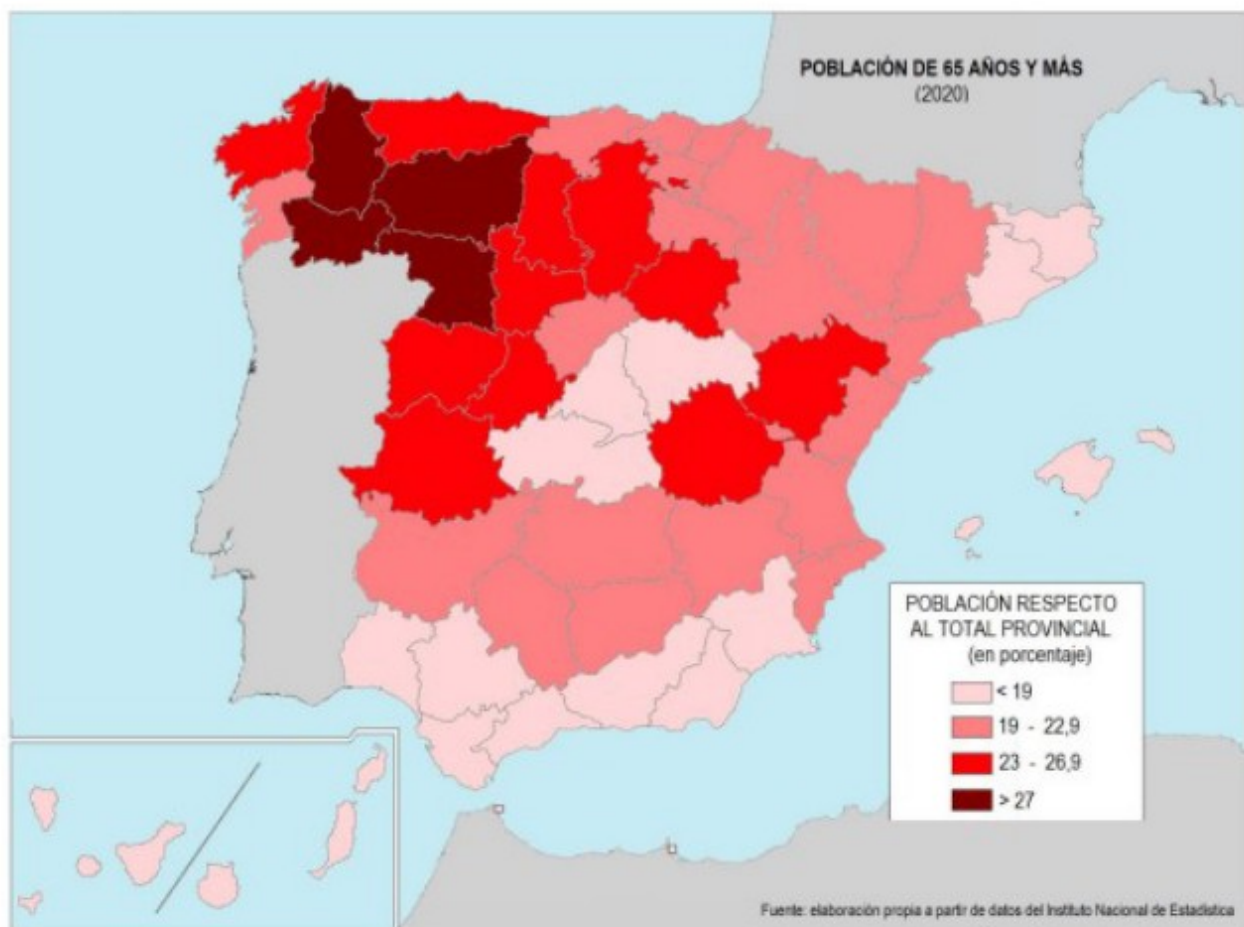
- a) ¿Qué provincias tienen más de un 16% de población extranjera? ¿Y cuáles menos de un 4%? (Hasta un 1 punto).
- b) Exponga a grandes rasgos las tendencias territoriales en la localización de extranjeros, ¿por qué se acumulan en esas provincias? (Hasta 1 punto).
- c) Razone las consecuencias demográficas y sociales de la inmigración. (Hasta 2 punto)



Ejercicio nº 31

EJERCICIO 1. El mapa nº 1 representa el porcentaje de población de 65 años y más respecto al total de la población en cada provincia de España. Obsérvelo y conteste las siguientes cuestiones:

- Diga las provincias en las que el porcentaje de población de 65 años y más está entre el 19% y el 22,9% (hasta 1 punto).
- Diga las provincias del centro de la Península Ibérica en las que el porcentaje de población de 65 y más está por debajo del 19% y explique qué causas existen para este bajo porcentaje (hasta 1 punto).
- Explique a qué se deben los contrastes en el envejecimiento de la población entre las provincias de España (hasta 2 puntos).

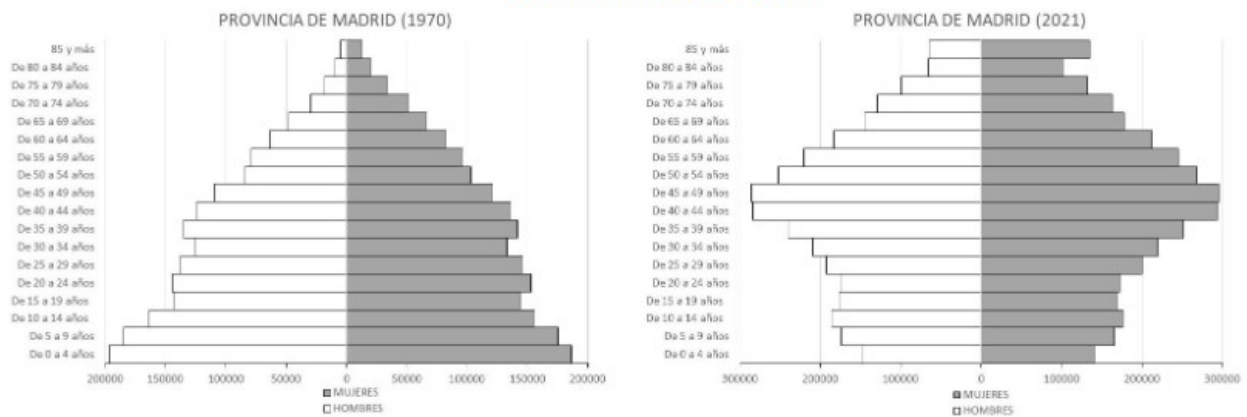


Ejercicio nº 32

EJERCICIO 1. Observe las pirámides de población correspondientes a la provincia de Madrid en los años 1970 y 2021. Analícelas y conteste las siguientes cuestiones:

- 1) Señala qué tipos de pirámides nos encontramos en esos 2 años, según la forma que se observa en ellas, y describe las características fundamentales de las mismas (hasta 1 punto).
- 2) Observa la pirámide de la provincia de Madrid en 1970 y explica las razones para el estrechamiento de las cohortes correspondientes a los grupos de edad 50-54 y 30-34 años (hasta 1 punto).
- 3) Explica las causas de la forma que se observa en la pirámide de 2021 y las consecuencias demográficas y socioeconómicas que se derivarán a medio plazo de la estructura de la población que se observa en ella (hasta 2 puntos).

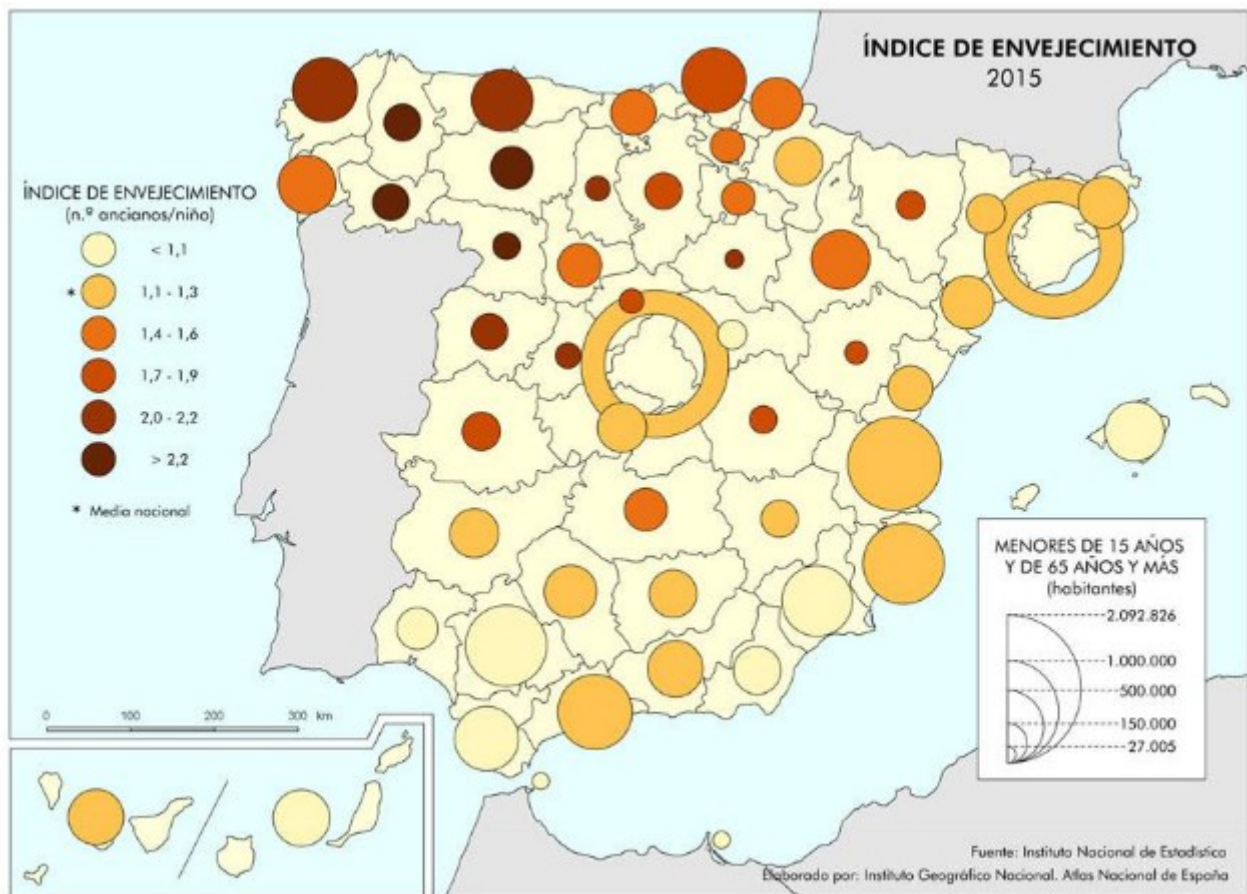
EJERCICIO 1. GRÁFICOS.



Ejercicio nº 33

EJERCICIO 1. El mapa representa la distribución del índice de envejecimiento en España. Analicelo y responda a las siguientes preguntas:

- Indique las provincias que muestran un valor del índice mayor a 2,2. (Hasta 1 punto).
- Comente la distribución territorial de las provincias con valor del índice menor a 1,4. (Hasta 1 punto).
- Compare la distribución del envejecimiento entre el sur y norte de España, estableciendo las diferencias existentes y sus causas. (Hasta 2 puntos).



Ejercicio nº 34

EJERCICIO 1. El mapa representa el porcentaje de población extranjera según su origen. Analicelo y responda a las siguientes preguntas:

- Indique cuatro provincias en las que la población extranjera supera el 14%. (Hasta 1 punto).
- Indique cuatro provincias en las que la población mayoritaria proceda de la UE. (Hasta 1 punto).
- Partiendo del mapa, comente la evolución e importancia de la inmigración en España desde principios del siglo XXI. (Hasta 2 puntos).



TEMA 7: EL ESPACIO URBANO

Ejercicio nº 35

EJERCICIO 1. La figura 1 muestra una imagen aérea de la ciudad de Toledo. Conteste a las siguientes preguntas:

a) Defina el tipo de plano de la zona delimitada y razone la respuesta. (Hasta 1 punto)

b) Explique los factores del emplazamiento de la ciudad de Toledo. (Hasta 1 punto)

c) Explique los principales problemas que afectan hoy al casco antiguo de las ciudades españolas y comente qué medidas suelen aplicarse para solucionarlos. (Hasta 2 puntos)

(Valoración: Hasta 4 puntos)

EJERCICIO 1. FIGURA 1.



Ejercicio nº 36

EJERCICIO 1. La ortofoto nº 1 es de la ciudad de Barcelona. Analízela y responda a las siguientes cuestiones:

- a) Diga los tipos de plano urbano correspondientes a las tres zonas señaladas con números, indicando el periodo histórico en que se conformaron fundamentalmente. (Hasta 1 punto).
- b) Defina y caracterice los tipos de plano urbano de las zonas con los números 1 y 3. (Hasta 1 punto).
- c) Explique el papel de Barcelona en el sistema de ciudades español. (Hasta 2 puntos).



Ejercicio nº 37

La siguiente figura es un fotoplano de la ciudad de Barcelona. Obsérvela detenidamente y conteste a las siguientes preguntas:

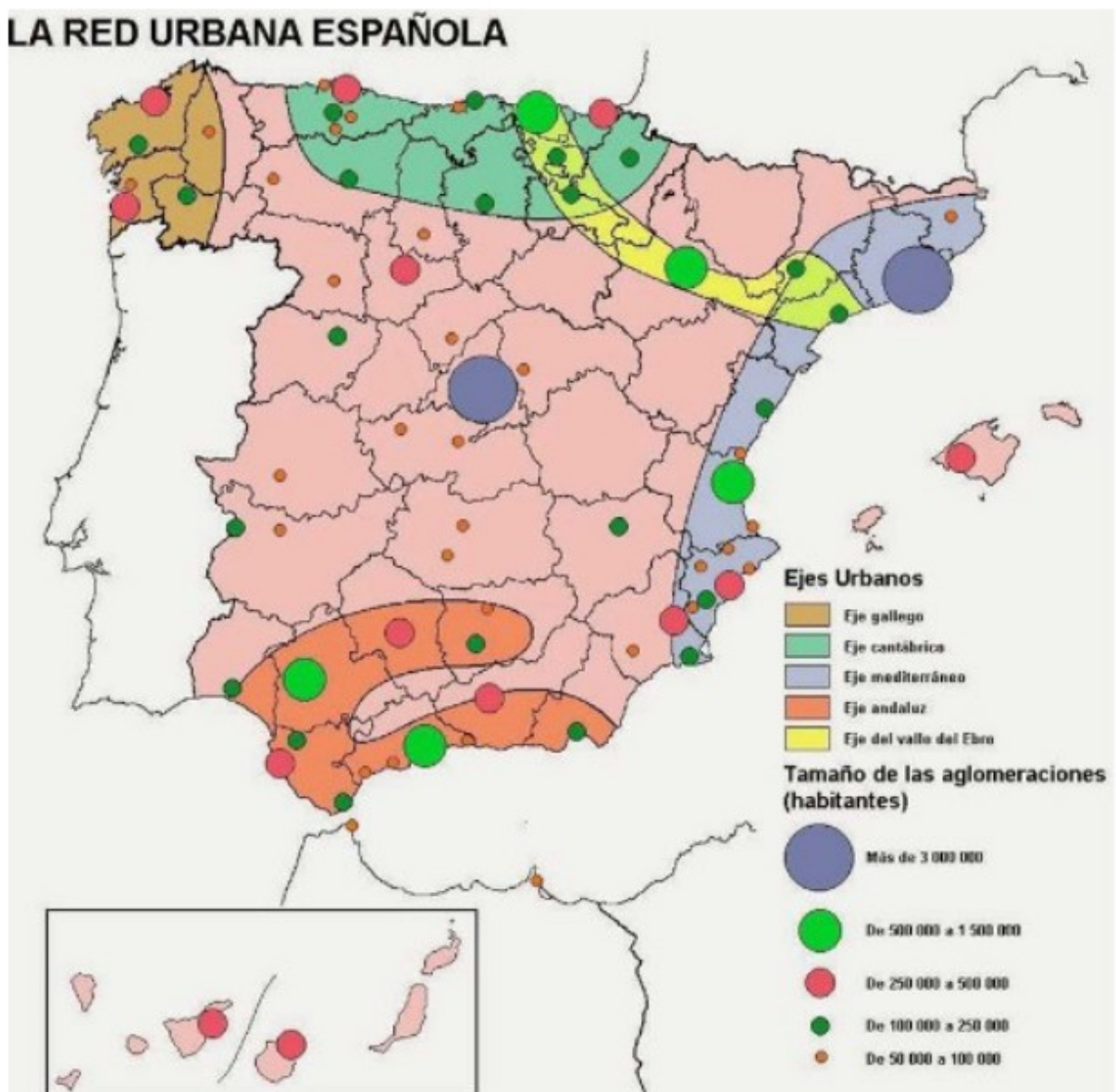
- a) Identifique las tres unidades señaladas numéricamente en el plano. (Hasta 1 punto).
- b) Defina y caracterice el tipo de plano urbano de las unidades numeradas como 1 y 3. (Hasta 1 punto).
- c) Explique los factores del emplazamiento de la ciudad de Barcelona y su papel en el sistema de ciudades español. (Hasta 2 puntos)



Ejercicio nº 38

En el siguiente mapa se representa el sistema urbano español. Analícelo y conteste a las siguientes preguntas:

- a) Cite las aglomeraciones urbanas que tienen entre 500.000 y 1.500.000 habitantes y sitúelas en los ejes urbanos correspondientes. (Hasta 1 punto).
- b) Describa los principales ejes urbanos que aparecen reflejados en el mapa. (Hasta 1 punto).
- c) Explique las principales etapas en el proceso de urbanización en España y qué factores han intervenido. (Hasta 2 puntos)



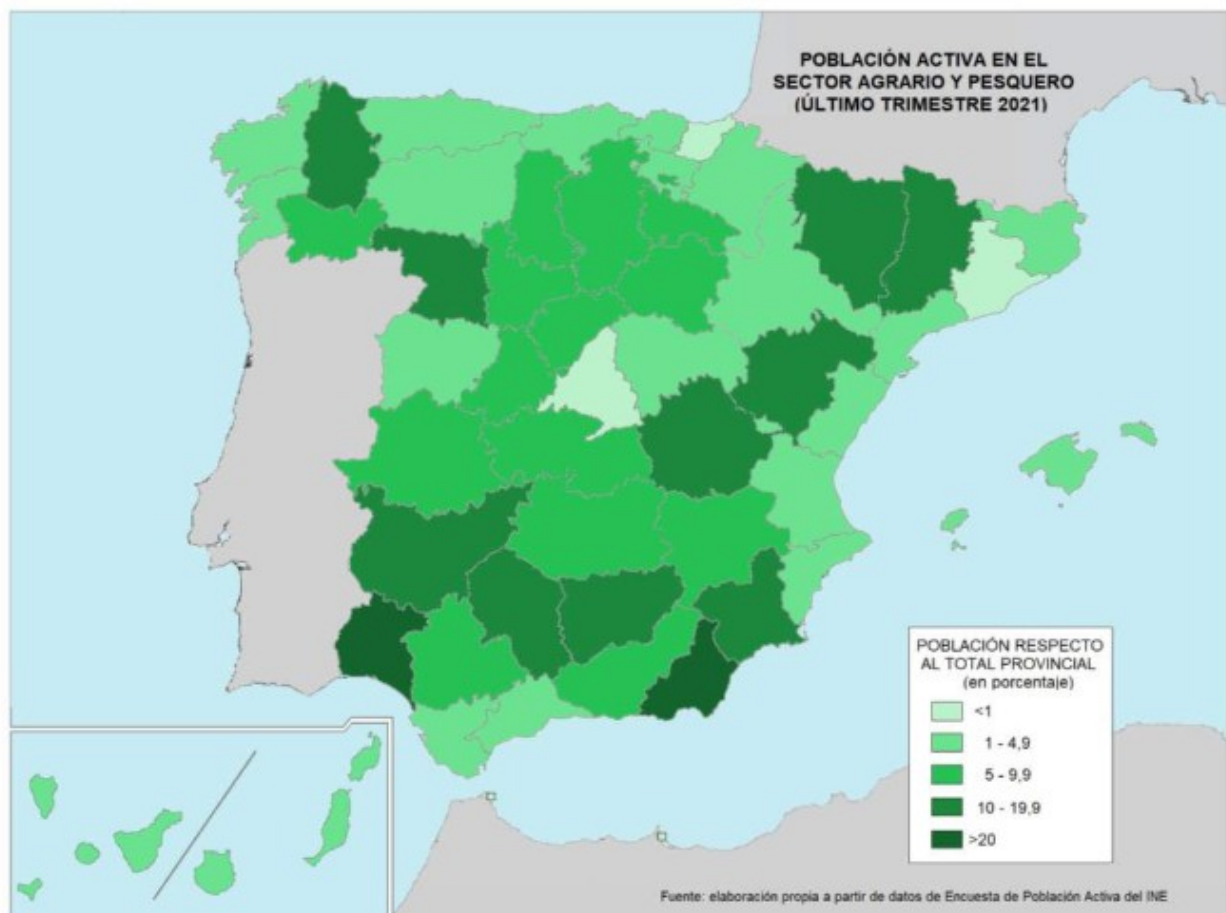
TEMA 8: EL ESPACIO RURAL

Ejercicio nº 39

EJERCICIO 2. En el mapa 2 se representa el porcentaje de población activa en el sector agrario y pesquero del último trimestre de 2021 sobre el total de población activa de cada provincia de España. Obsérvelo y conteste las siguientes cuestiones:

- Diga las provincias en las que el porcentaje está entre el 10% y el 19,9%. (Hasta 1 punto).
- Explique a qué se debe el porcentaje superior al 20% en las provincias correspondientes. (Hasta 1 punto).
- Explique a qué se deben los contrastes en el peso de la población activa agraria y pesquera entre las provincias españolas. (Hasta 2 puntos).

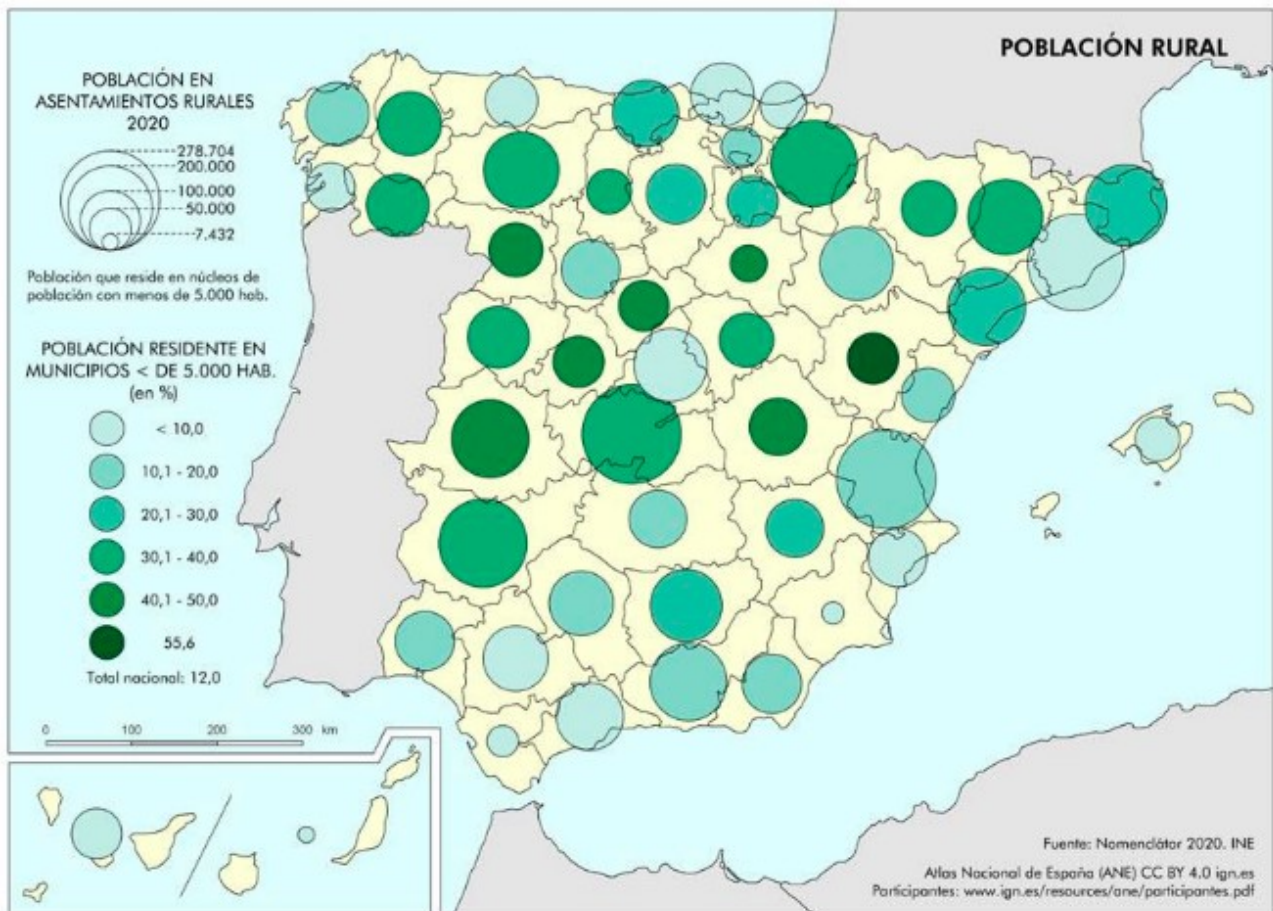
EJERCICIO 2. MAPA 2.



Ejercicio nº 40

EJERCICIO 1. El mapa representa la presencia de población residiendo en asentamientos rurales. Analicelo y responda a las siguientes preguntas:

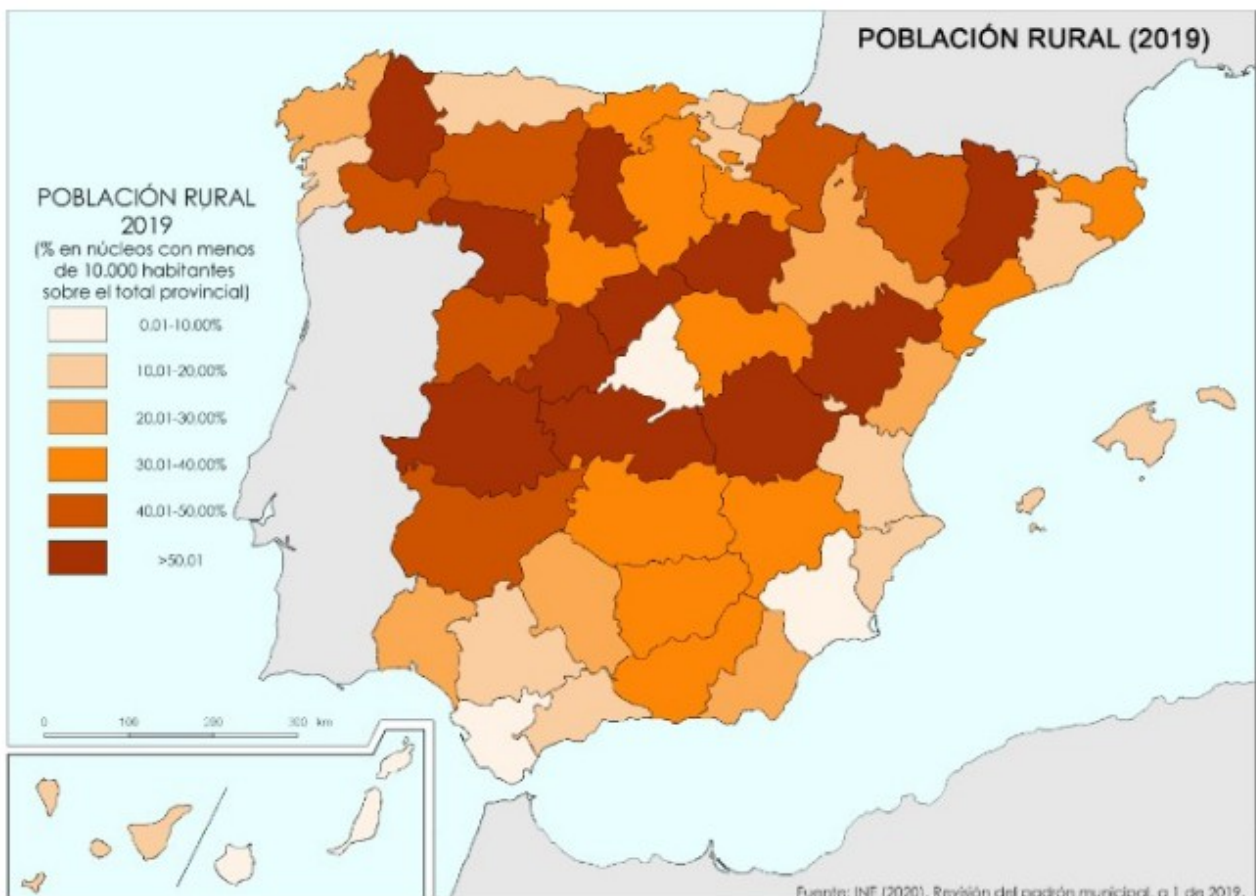
- Indique cuatro provincias donde la población rural supera el 40%. (Hasta 1 punto).
- Indique cuatro provincias andaluzas donde la población rural no llega al 30%. (Hasta 1 punto).
- Analice la distribución de la población rural en España. Explique sus causas y relación con los retos demográficos: envejecimiento y despoblación rural. (Hasta 2 puntos).



Ejercicio nº 41

El Mapa representa la población rural en las provincias españolas (porcentaje de población en municipios de menos de 10.000 habitantes). Analícelo y responda a las siguientes cuestiones:

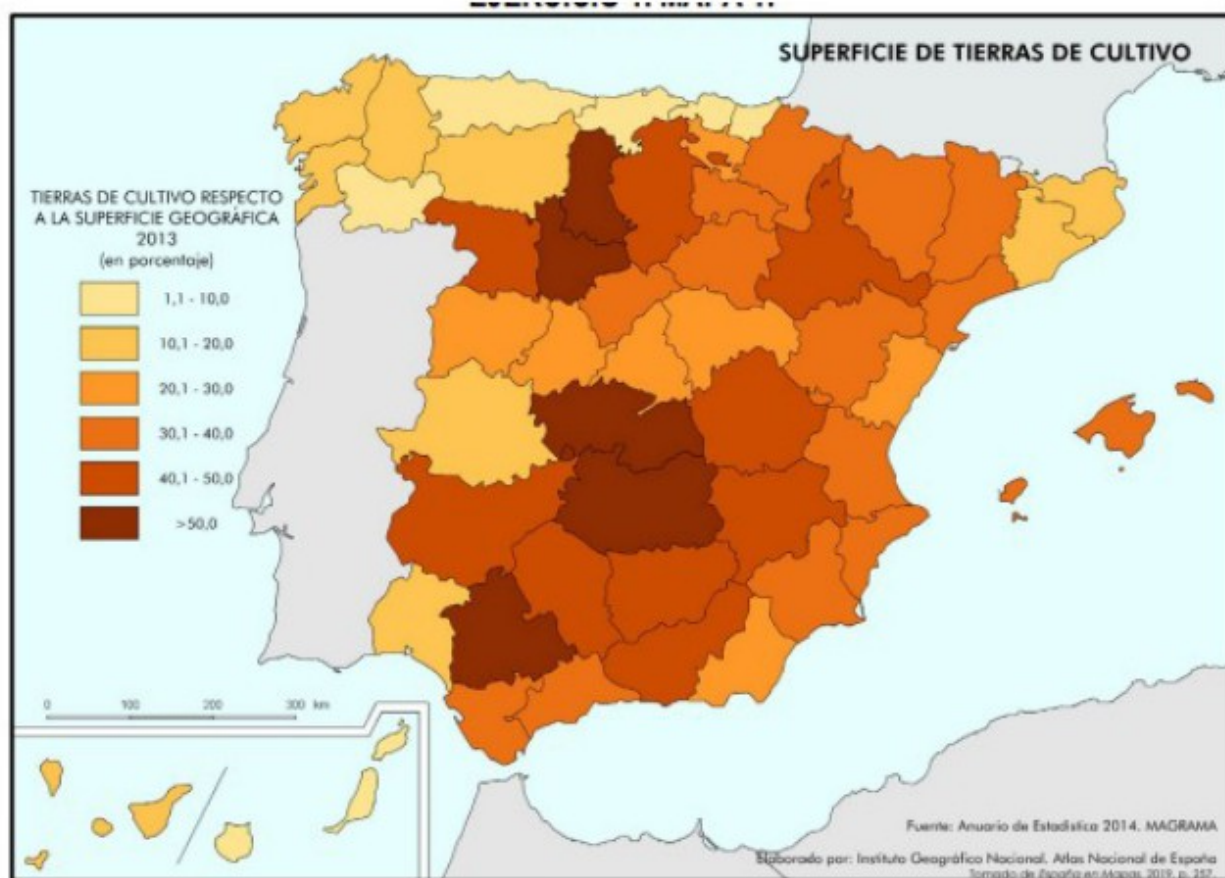
- a) ¿Cuáles son las provincias con entre el 40,01% y el 50% de población rural? (Hasta 1 punto).**
- b) ¿A qué se debe la concentración de población rural en la submeseta norte? (Hasta 1 punto).**
- c) ¿Qué procesos explican la distribución de la población rural en España? (Hasta 2 puntos).**



Ejercicio nº 42

EJERCICIO 1. El mapa nº 1 representa el porcentaje de tierras de cultivo respecto a la superficie geográfica en cada provincia de España. Obsérvelo y conteste las siguientes cuestiones:

- Diga las provincias en las que el porcentaje de tierras de cultivo está entre el 40,1% y 50%. (Hasta 1 punto).
- Explique por qué en las provincias atlánticas del norte de España hay un porcentaje bajo de tierras de cultivo. (Hasta 1 punto).
- Fijese en las provincias cuyo peso porcentual de tierras de cultivo se encuentra por encima del 50%. Explique por qué son las zonas con el porcentaje más alto de España. (Hasta 2 puntos).



Ejercicio nº 43

El Mapa representa la superficie regada por provincias en España (en porcentaje sobre el total de tierras de cultivo). Analízelo y conteste a las siguientes cuestiones:

- a) ¿Cuáles son las provincias que presentan más del 40,0% de sus tierras de cultivo en regadío? (Hasta 1 punto).
- b) ¿Qué tipo de cultivos son los que motivan la superficie regada en las provincias 1 y 2? (Hasta 1 punto).
- c) ¿Qué condiciones naturales motivan el predominio de la superficie cultivada de regadío en el sureste peninsular? (Hasta 2 puntos).

